

## Sveinspróf í rafvélavirkjun

### Iðnteikning.

Nafn próftaka: \_\_\_\_\_

Kennitala: \_\_\_\_\_


Hjálpargögn: Teikniáhöld.

**Úrlausnartími: 3 klst.**


**Skýringar á verkefnum:** Prófið skiptist í 2 verkefni: a) teikna 4-póla mótór b) sýna tengingu á jafnstraumshreyfli með slyngdan ásamt gangsetningarviðnámi og haldspólu.

**Gangi þér vel.**

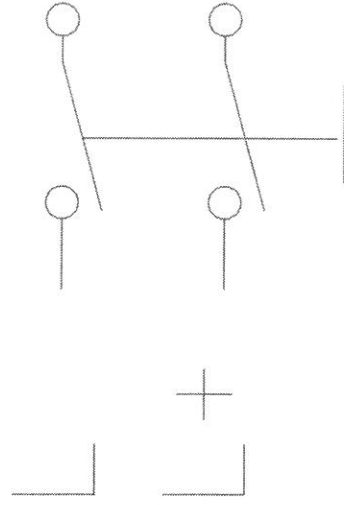
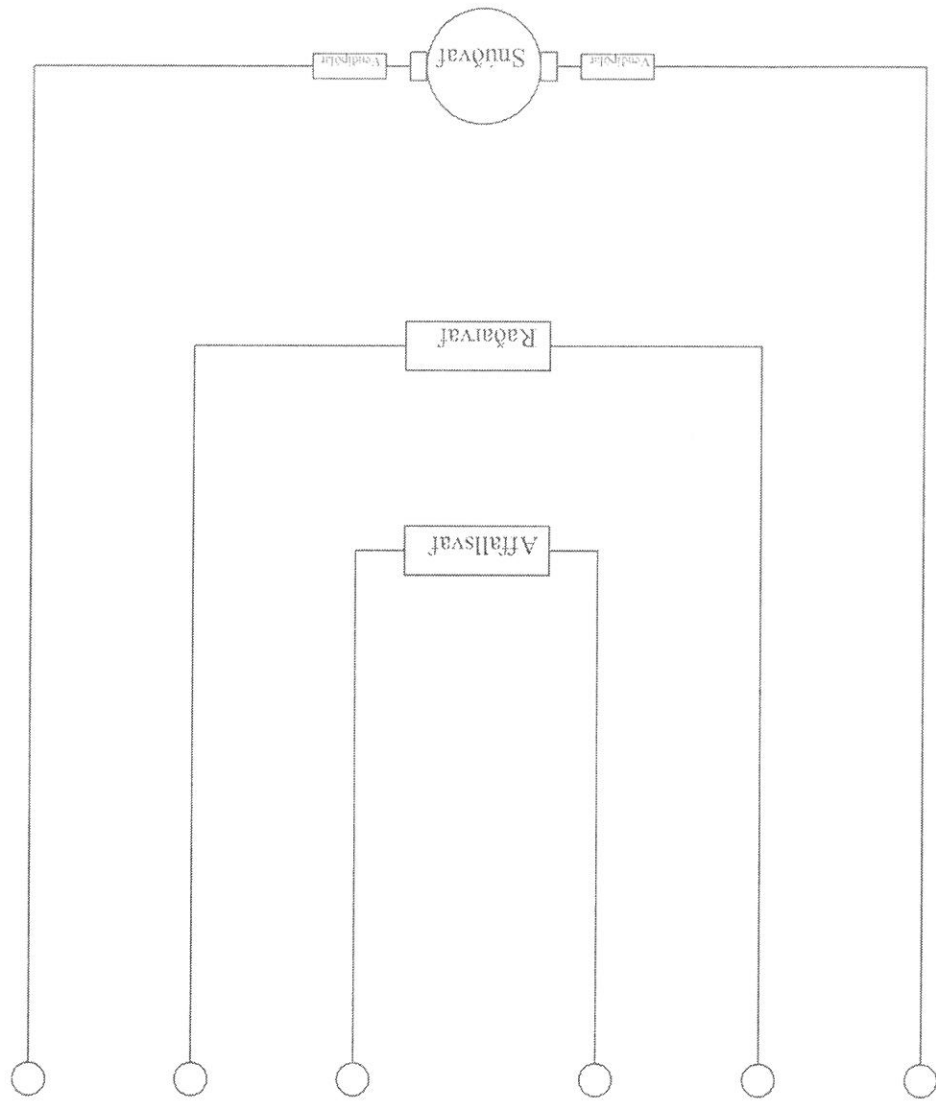
# Gangsetningarviðnám



# Haldspóla




Sýnið tengingu á jafnstraumshreyfli meðslýngdan ásamt gangsetningarviðnámi og haldspólu.



Nafn próftaka: \_\_\_\_\_

Svartspáðeining Lúffinn, stærktur	Dags.	22.05.2008	c	HREYFILL.ÞRD.
	Telmeð Vrf.	SFS	a	
Prófi jóni 2008		Dags.	Mfn	JAFNSTRÁUMSHREYFILL MEÐSLÝNGDUR

4-póla mótari:  
Teiknaðu allar spólur og sýnið  
straumstefnur í spólukliðum.  
Mótorinn skal tengja í stjörnu.



Ath. Þessi teikning er ekki í staðlaðri stærð.

Sveinsprófsnefnd  
sterkstraums

Júní 2008

Nafn

Kennit: