

Sveinspróf í rafvélavirkjun

Iðnteikning.

Nafn próftaka: _____

Kennitala: _____

Hjálpargögn: Teikniáhöld.

Úrlausnartími: 3¹/₂ klst.

Skýringar á verkefnum: Prófið skiptist í 2 verkefni: a) teikna 4-póla mótór b) sýna tengingu á jafnstraumshreyfli með slyngdan ásamt gangsetningarviðnámi og haldspólu.

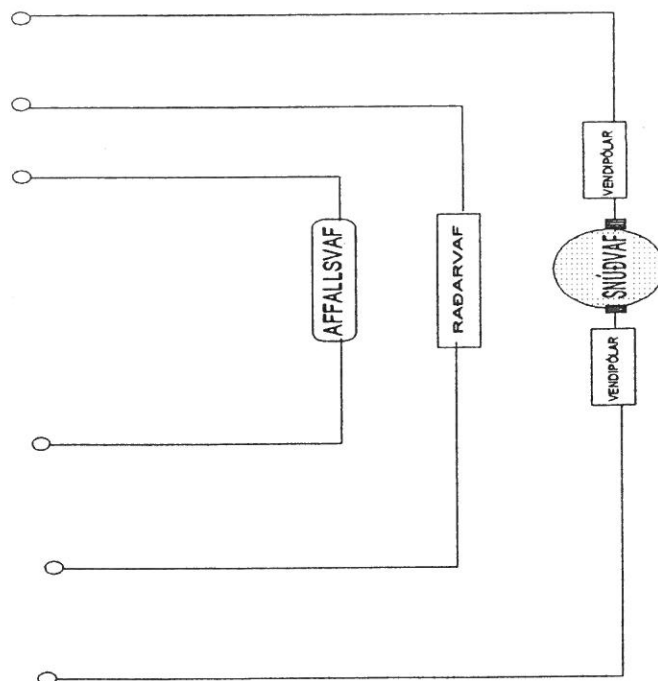
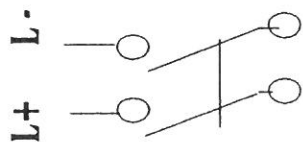
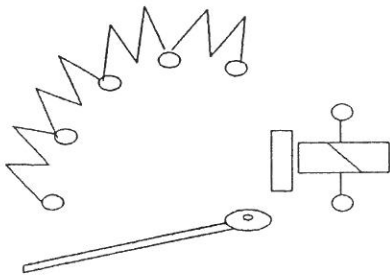
Gangi þér vel.

Þrófblað

Nafn próftaka _____

Gangsetningarviðnám

HALDSPÓLA



Jafnstraumshreyfill
meðslyngdur.

