

Sveinspróf í rafvélavirkjun

Iðnteikning.

Nafn próftaka: _____

Kennitala: _____


Hjálpargögn: Teikniáhöld.

Úrlausnartími: 3 klst.


Skýringar á verkefnum: Prófið skiptist í 2 verkefni: a) teikna 6-póla mótór b) sýna tengingu á jafnstraumshreyfli með slyngdan ásamt gangsetningarviðnámi og haldspólu.

Gangi þér vel.

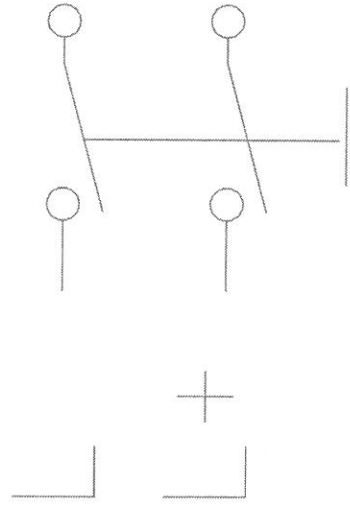
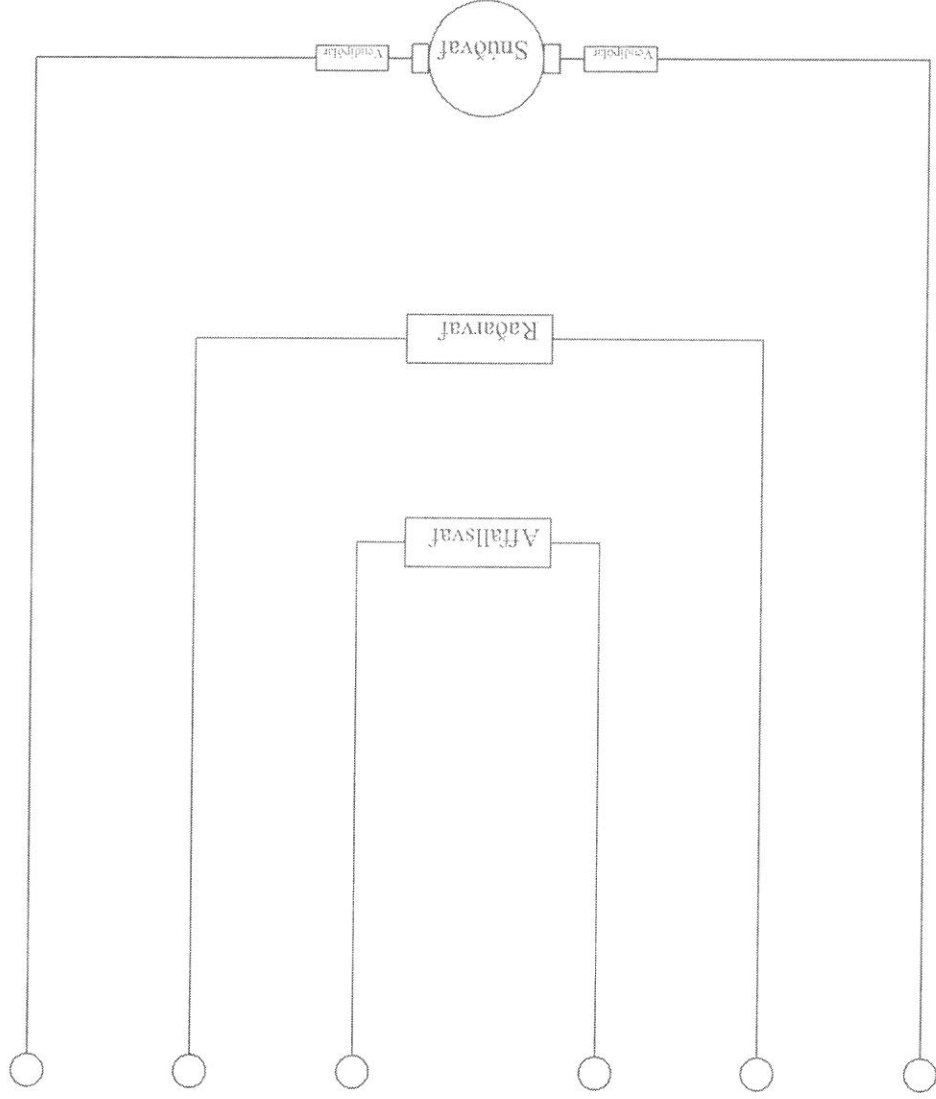
Gangsetningarviðnám



Haldspóla




Sýnið tengingu á jafnstraumshreyfli meðslýngdan ásamt gangsetningarviðnámi og haldspólu.



Nafn próftaka: _____

Sveinbjörguástrátt 101 Fátta, Síðvástr.	Búsk.	22.05.2008	C	URSTILLING
	Tíðni Tíff.	Stöð	a	
			Þreyting	
			Þeg.	
			Nefn.	
		Próf í febrúar 2008		JAFNSTRÁUMSHREYFILL MEÐSLÝNGDUR

6-póla mótur:
Teiknaðu allar spólur og sýnið
straumstefnur í spóluhlíðum.
Mótorinn skal tengja í stjörnu.



Ath. Þessi teikning er ekki í staðlabri stærð.

Sveinsprófsnefnd
sterkstraums

febrúar 2008

Nafn _____

Kennit.: _____