

06. júní 2023 kl. 8:30 - 11:30

Sveinspróf í rafvirkjun

Raflagnateikning

ásamt magnmælingu.



Nafn: _____
Kennitala: _____
Heimilisfang: _____

Hjálpargögn sem leyfð eru: Teikniáhöld, skriffæri, reglustríkur, teiknibretti A3 og reiknivél.

Skýringar: Próftaki skal fullgera teikningu í húsið ásamt almennum skýringum, þannig að teikningin sé tilbúin til samþykktar. Í húsið koma aðal- og greinatafla, sem próftaka bera að teikna einlínmyndir (töfluteikning) og snið af. Tákn fyrir rofa eru sýnd með hringjum, sem próftaki skal fullgera, en að öðru leyti þarf ekki að bæta við táknum.

Notast skal við tákn úr IEC 60617-DB-12M:2012 eða sambærilegt.

Gera skal efnislista (magnmæling) samkvæmt sérteikningu sem fylgir með.

Vægi: Lágspennulögn og skýringar	45 %
Einlínmynd	25 %
Smáspennulögn	10 %
Snið - Afstöðumynd	10 %
Magnmæling	10 %


Áritun prófdómara

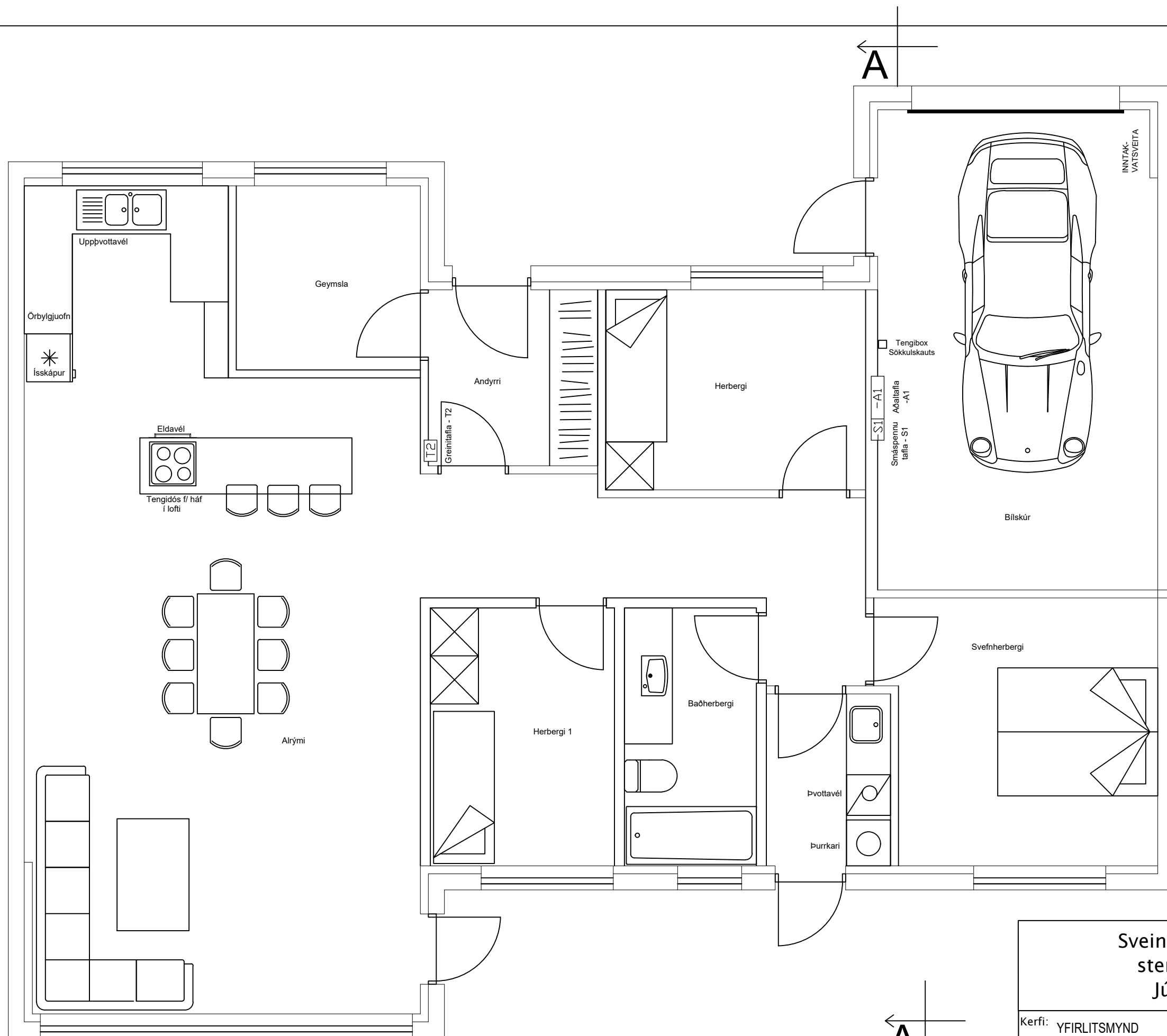
Skilað kl.	Aukablöð.	Mótttekið	Einkunn

Gangi þér vel !

Úrlausnartími: 3 klst.

Sveinsprófsnefnd sterkstraum júní 2023

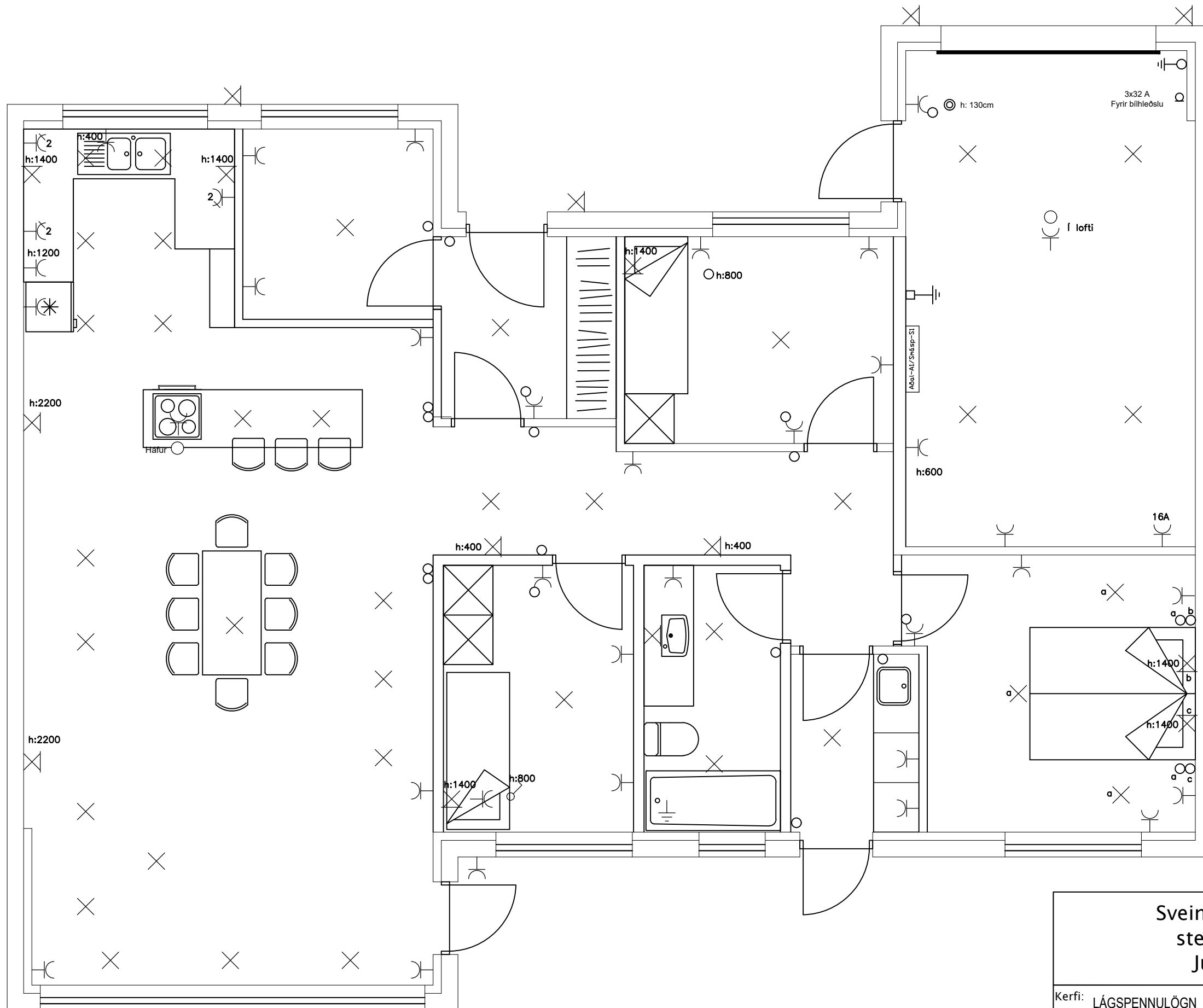




MKV 1:50

Sveinsprófsnefnd
sterkstraums
Júní 2023

Kerfi: YFIRLITSMYND
 Nafn: _____
 Kennit.: _____



Kvarði 1:50

<p>Sveinsprófsnefnd sterkstraums Júní 2023</p>	
Kerfi:	LÁGSPENNULÖGN OG SKÝRINGAR VÆGI:45%
Nafn:	_____
Kennit.:	_____

Sveinsprófsnefnd
sterkstraums
Júní 2023

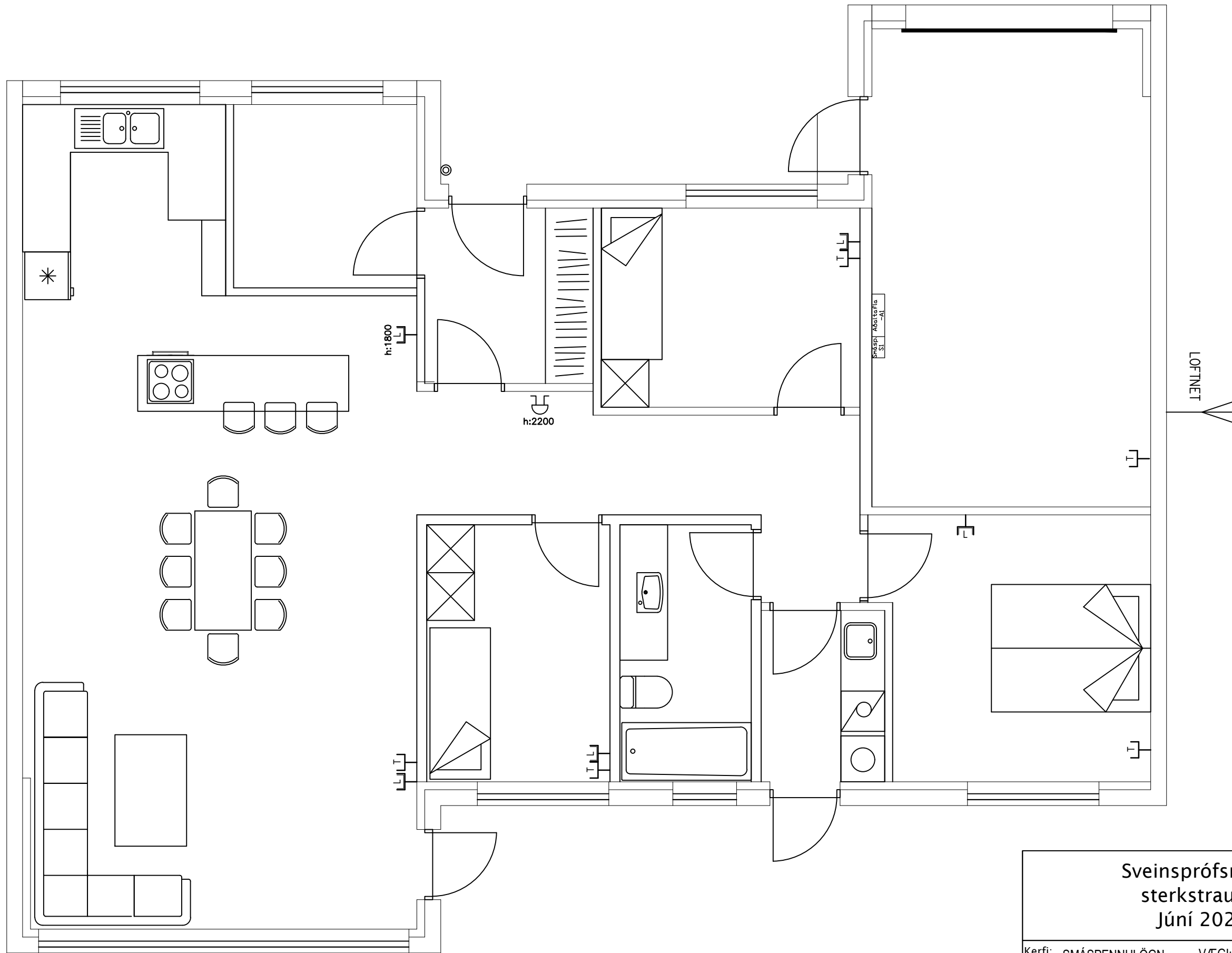
Kerfi: LÁGSPENNULÖGN_OG_SKÝRINGAR VÆGI:45%

Nafn: _____

Kennit.: _____

Sveinsprófsnefnd
sterkstraums
Júní 2023

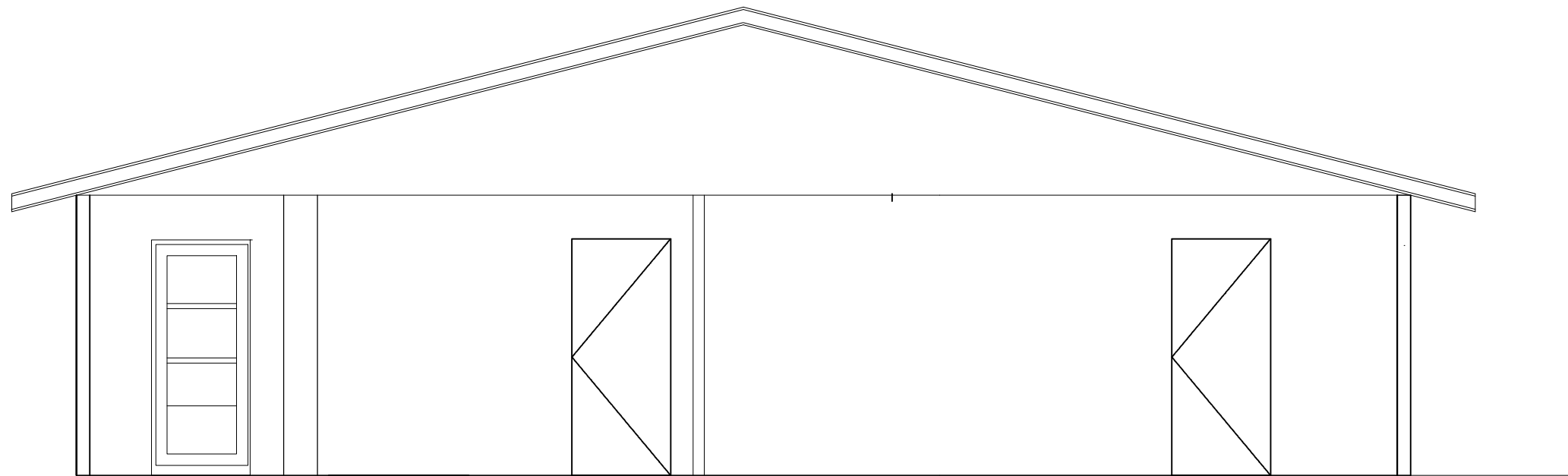
Kerfi: EINLÍNUMYND VÆGI: 25%
Nafn: _____
Kennit.: _____



Kvarði 1:50

<p>Sveinsprófsnefnd sterkstraums Júní 2023</p>	
Kerfi:	SMÁSPENNULÖGN VÆGI:10%
Nafn:	_____
Kennit.:	_____

Mælikvarði 1:50



Snið A-A



Sveinsprófsnefnd
sterkstraums
Júní 2023

Kerfi: SNID-AFSTÖDUMYND VÆGI:10%
Nafn: _____
Kennit.: _____

