

02.júní 2025 kl. 13:00 - 16:00

Sveinspróf í rafvirkjun

Raflagnateikning

ásamt magnmælingu.



Nafn: _____
Kennitala: _____
Heimilisfang: _____

Hjálpargögn sem leyfð eru: Teikniáhöld, skriffæri, reglustríkur, teiknibretti A3 og reiknivél.

Skýringar: Próftaki skal fullgera teikningu í húsið ásamt almennum skýringum, þannig að teikningin sé tilbúin til samþykktar.

Í húsið **skal** koma aðal- og greinitafla, sem próftaka **ber** að teikna einlínnumyndir (töfluteikning) og snið af.

Tákn fyrir rofa eru sýnd með hringjum, sem próftaki skal fullgera, en að öðru leyti þarf ekki að bæta við táknum.

Notast skal við tákni úr IEC 60617-DB-12M:2012 eða sambærilegt.

Gera skal efnislista (magnmæling) samkvæmt sérteikningu sem fylgir með.

Vægi: Lágspennulögn og skýringar	45 %
Einlínnumynd aðal- og greinitafla	25 %
Smáspennulögn	10 %
Snið	5 %
Afstöðumynd	5 %
Magnmæling	10 %

Áritun prófdómara

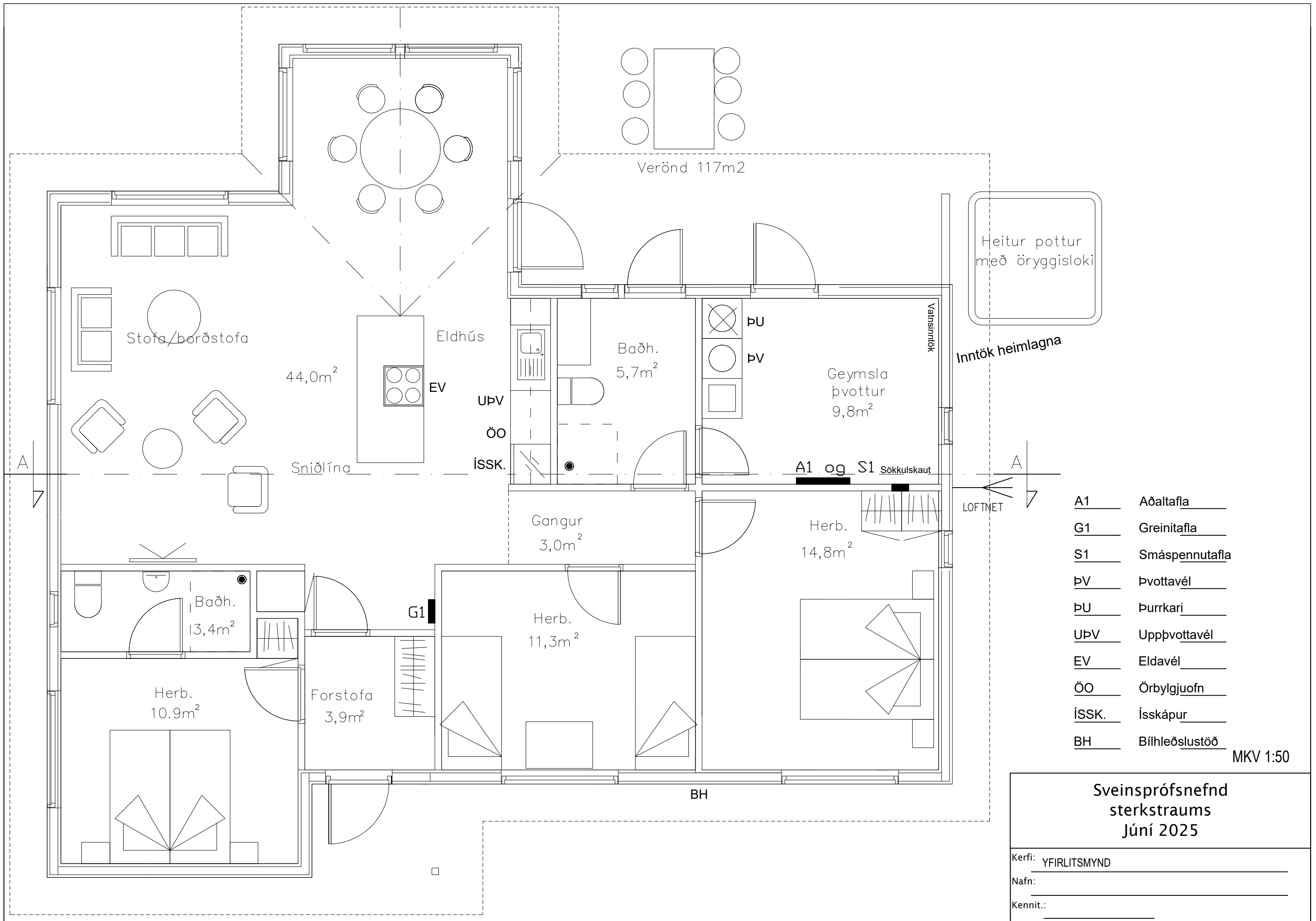
Skilað kl.	Aukablöð.	Mótttekið	Einkunn

Gangi þér vel !

Úrlausnartími: 3 klst.

Sveinsprófsnefnd sterkstraum júní 2025





Heitur pottur með öryggisloki

Inntök heimlagna

LOFTNET

- A1 Aðaltafla
- G1 Greinitafla
- S1 Smáspennutafla
- ÞV Þvottavél
- ÞU Þurrkari
- UPV Uppþvottavél
- EV Eldavél
- ÖO Örbylgjuofn
- ÍSSK. Ísskápur
- BH Bílhleðslustöð

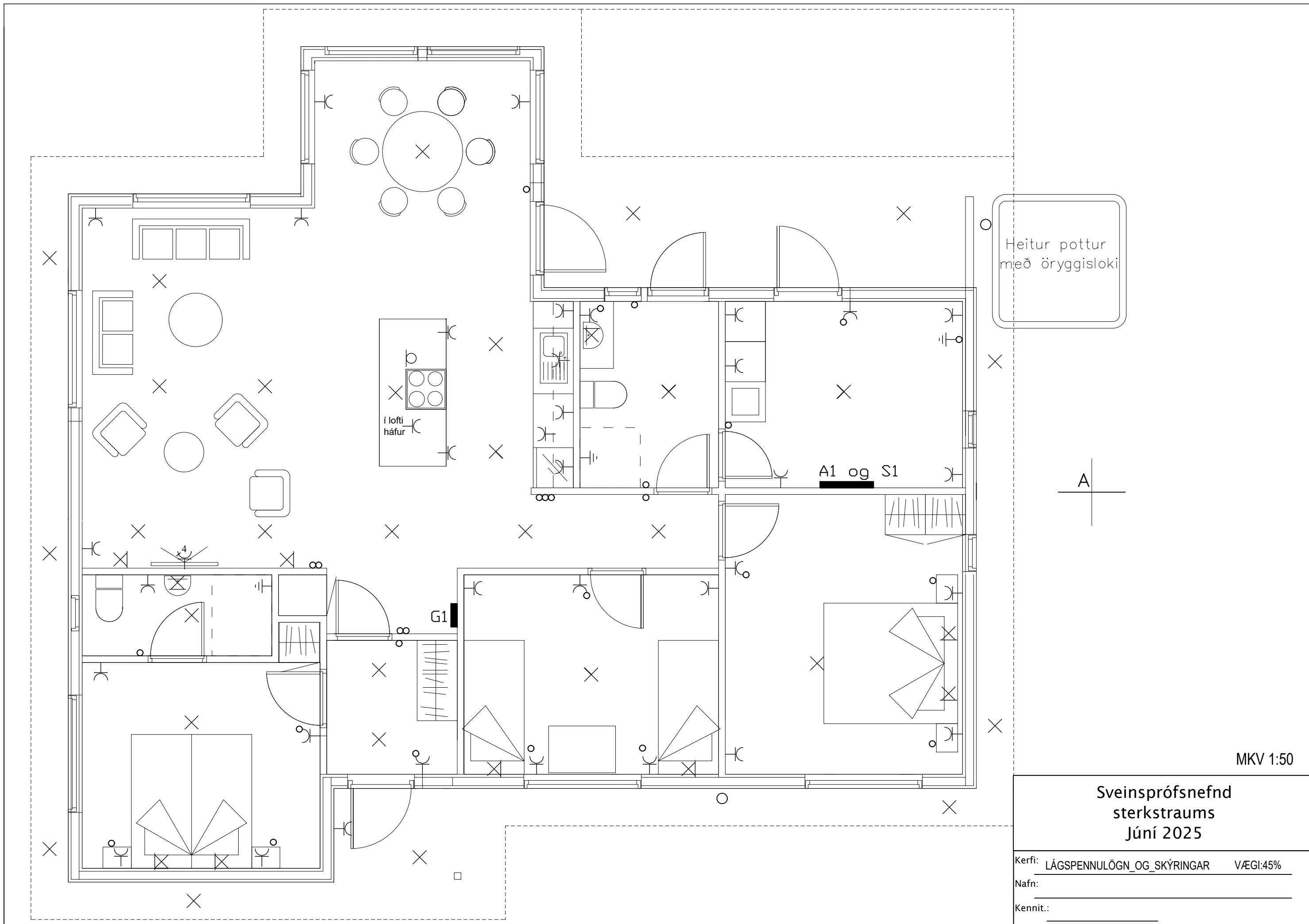
MKV 1:50

**Sveinsprófsnefnd
sterkstraums
Júní 2025**

Kerfi: YFIRLITSMYND

Nafn: _____

Kennit.: _____



Sveinsprófsnefnd
sterkstraums
Júní 2025

Kerfi: LÁGSPENNULÖGN OG SKÝRINGAR VÆGI:45%

Nafn: _____

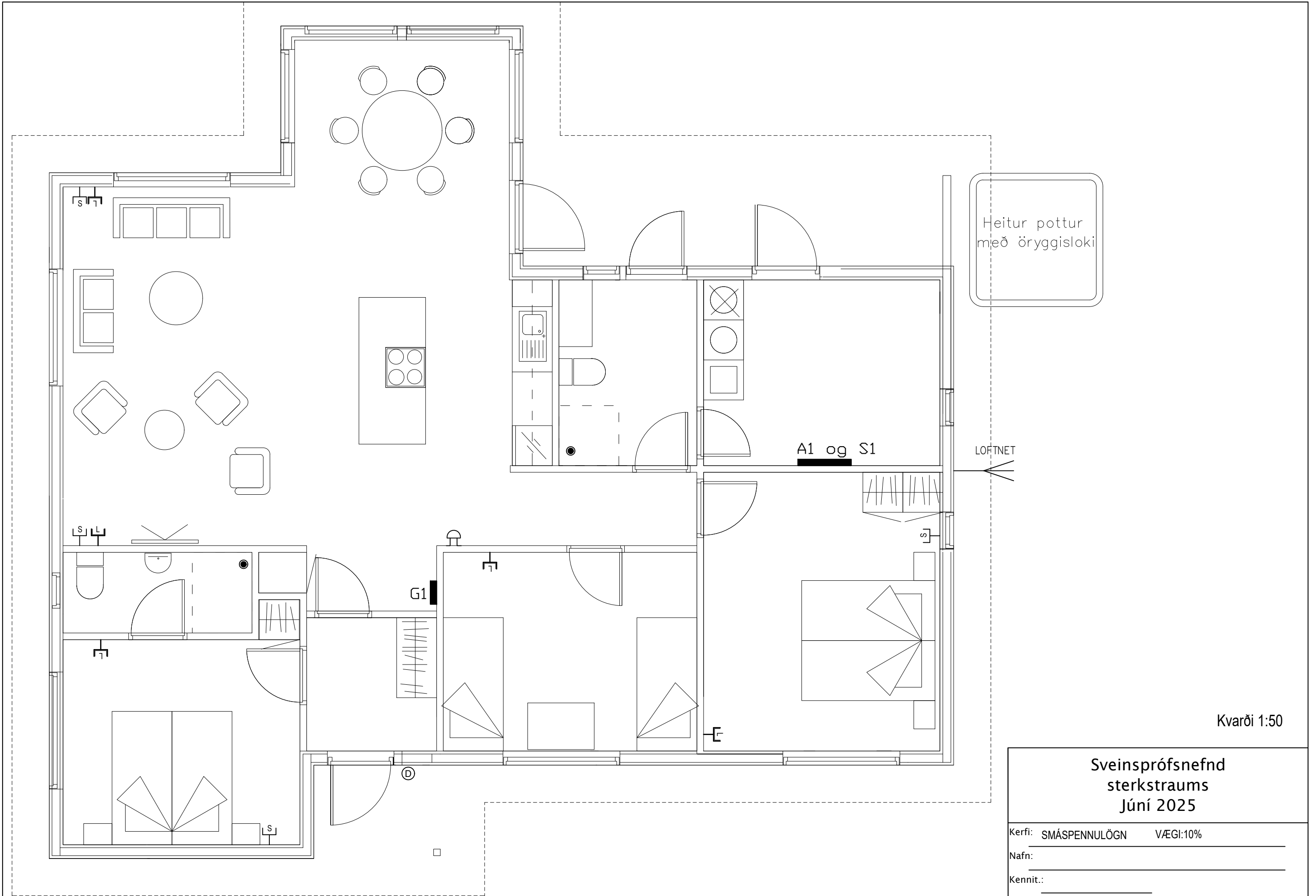
Kennit.: _____

Sveinsprófsnefnd
sterkstraums
Júní 2025

Kerfi: LÁGSPENNULÖGN_OG_SKÝRINGAR VÆGI:45%
Nafn: _____
Kennit.: _____

Sveinsprófsnefnd
sterkstraums
Júní 2025

Kerfi: EINLÍNUMYND VÆGI: 25%
Nafn: _____
Kennit.: _____



Heitur pottur
með öryggisloki

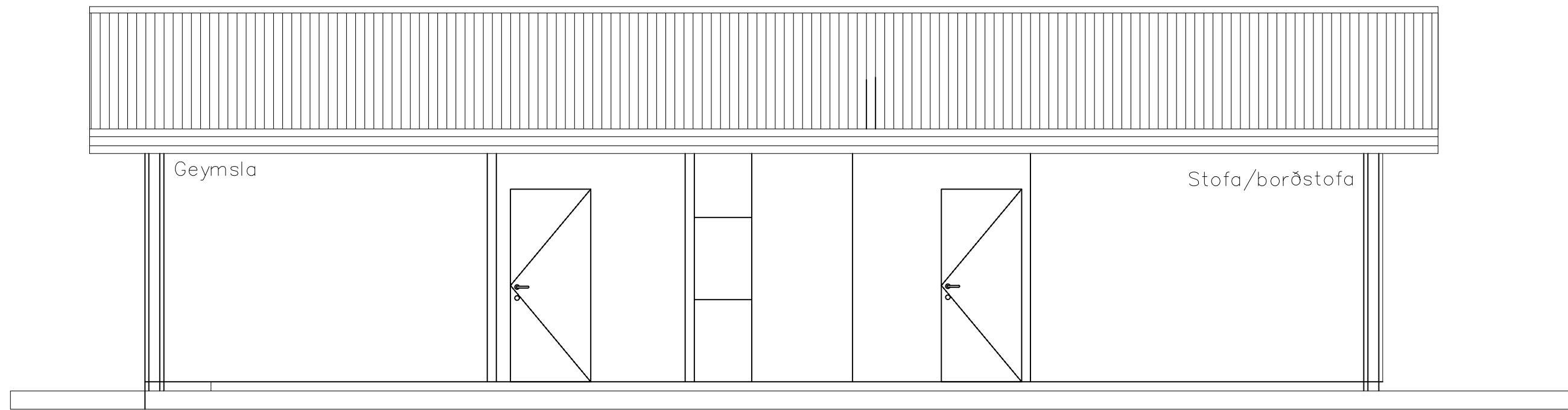
A1 og S1

LOFTNET

G1

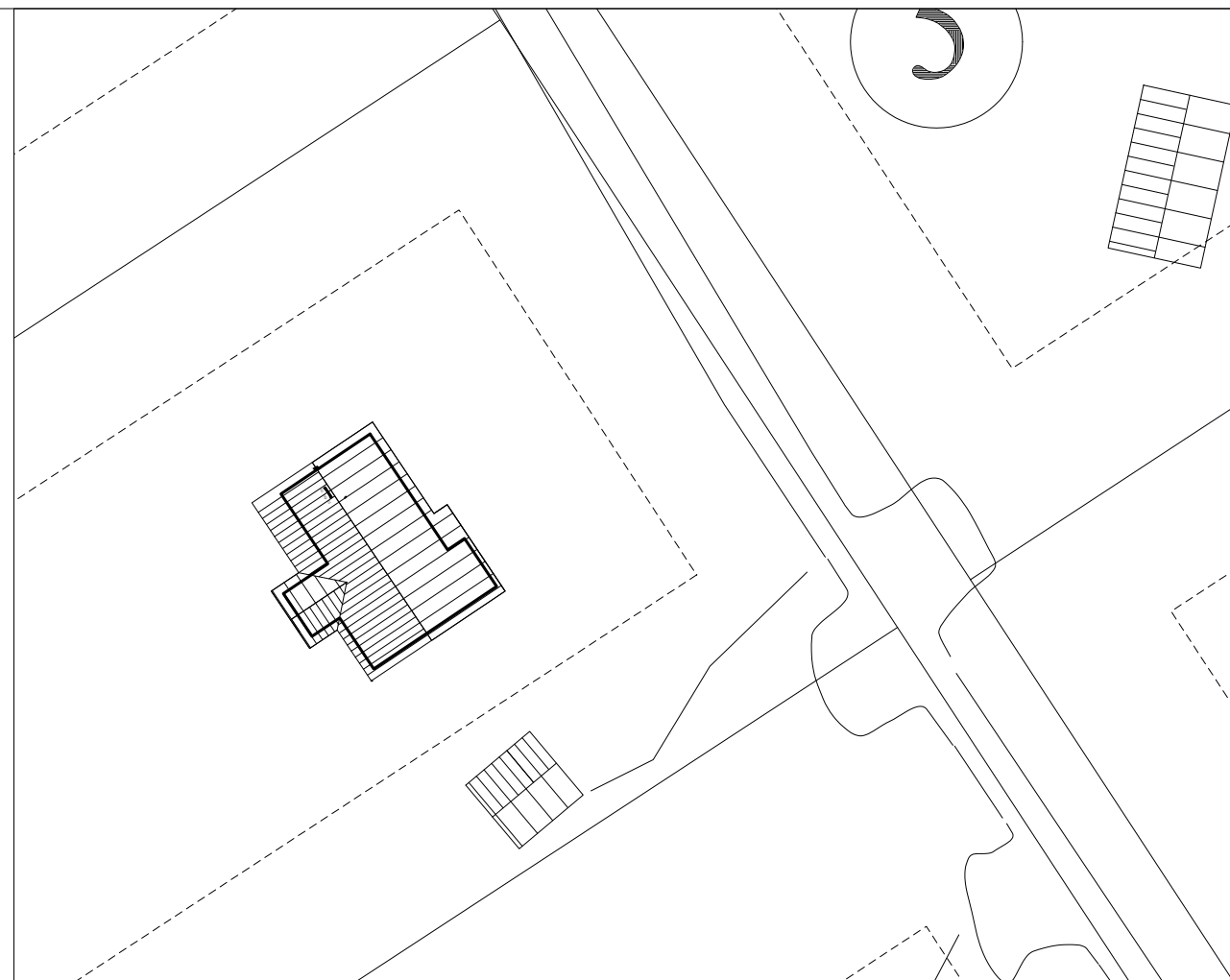
Kvarði 1:50

<p>Sveinsprófsnefnd sterkstraums Júní 2025</p>	
Kerfi:	SMÁSPENNULÖGN VÆGI:10%
Nafn:	_____
Kennit.:	_____



A-A snið

Mælikvarði 1:50



Mælikvarði 1:500

<p>Sveinsprófsnefnd sterkstraums Júní 2025</p>	
Kerfi:	SNID-AFSTÖDUMYND VÆGI:10%
Nafn:	_____
Kennit.:	_____

