

3.júní 2019 kl. 13:00 - 16:00



Sveinspróf í rafvirkjun

Raflagnateikning

ásamt magnmælingu.

Nafn: _____
Kennitala: _____
Heimilisfang: _____

Hjálpargögn sem leyfð eru: Teikniáhöld, skriffæri, reglustríkur, teiknibretti A3 og reiknivél.

Skýringar: Próftaki skal fullgera teikningu í húsið ásamt almennum skýringum, þannig að teikningin sé tilbúin til samþykktar. Í húsið koma aðal- og greinatafla, sem próftaka bera að teikna einlínummyndir (töfluteikning) og snið af. Tákn fyrir rofa eru sýnd með hringjum, sem próftaki skal fullgera, en að öðru leyti þarf ekki að bæta við táknum.

Notast skal við tákni úr IEC 60617-DB-12M:2012 eða sambærilegt.

Gera skal efnislista (magnmæling) samkvæmt sérteikningu sem fylgir með.

Vægi: Lágspennulögn og skýringar	45 %
Einlínummynd	25 %
Smáspennulögn	10 %
Snið	5 %
Afstöðummynd	5 %
Magnmæling	10 %

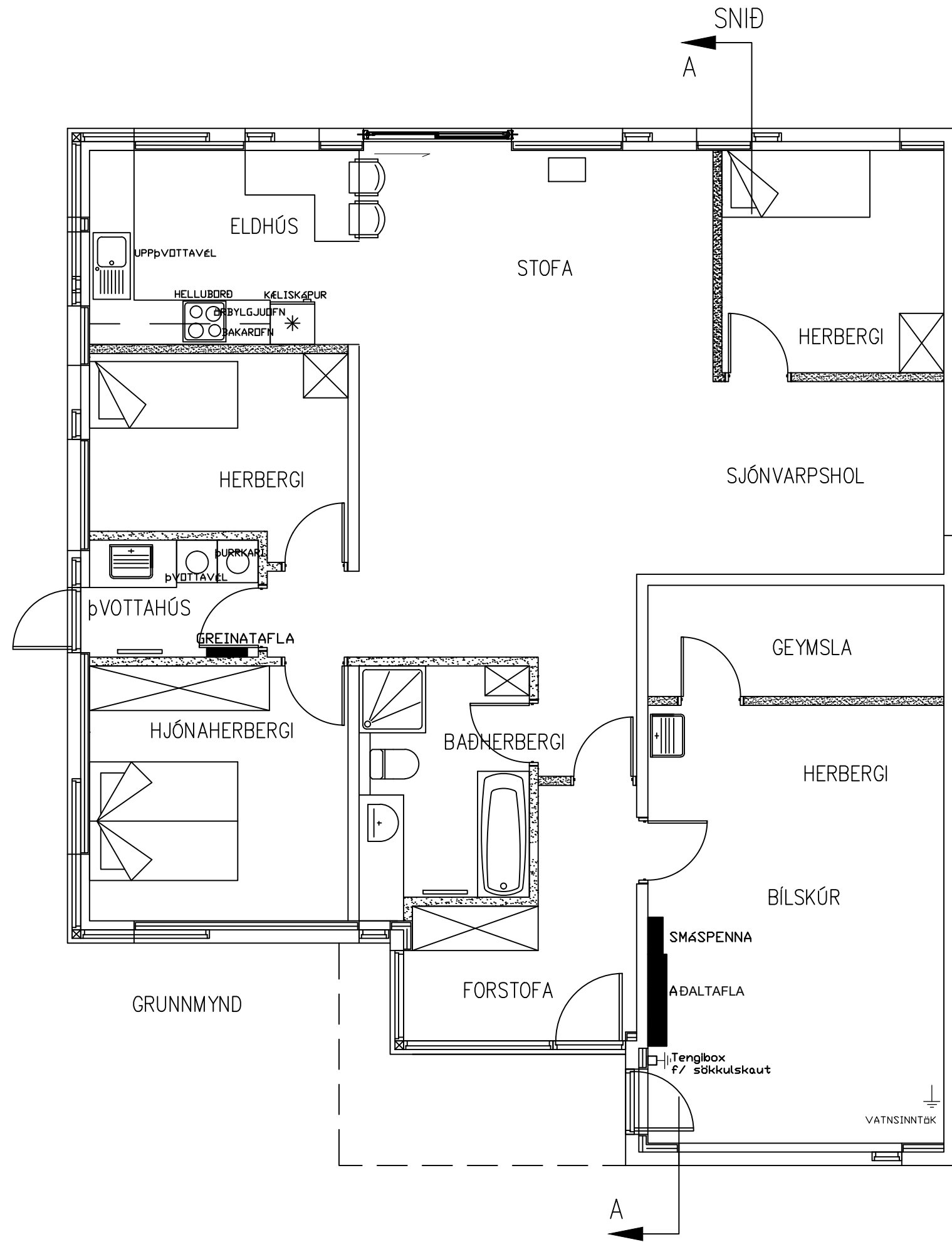
Gangi þér vel !

Áritun prófdómara

Skilað kl.	Aukablöð.	Kvittun

Úrlausnartími: 3 klst.

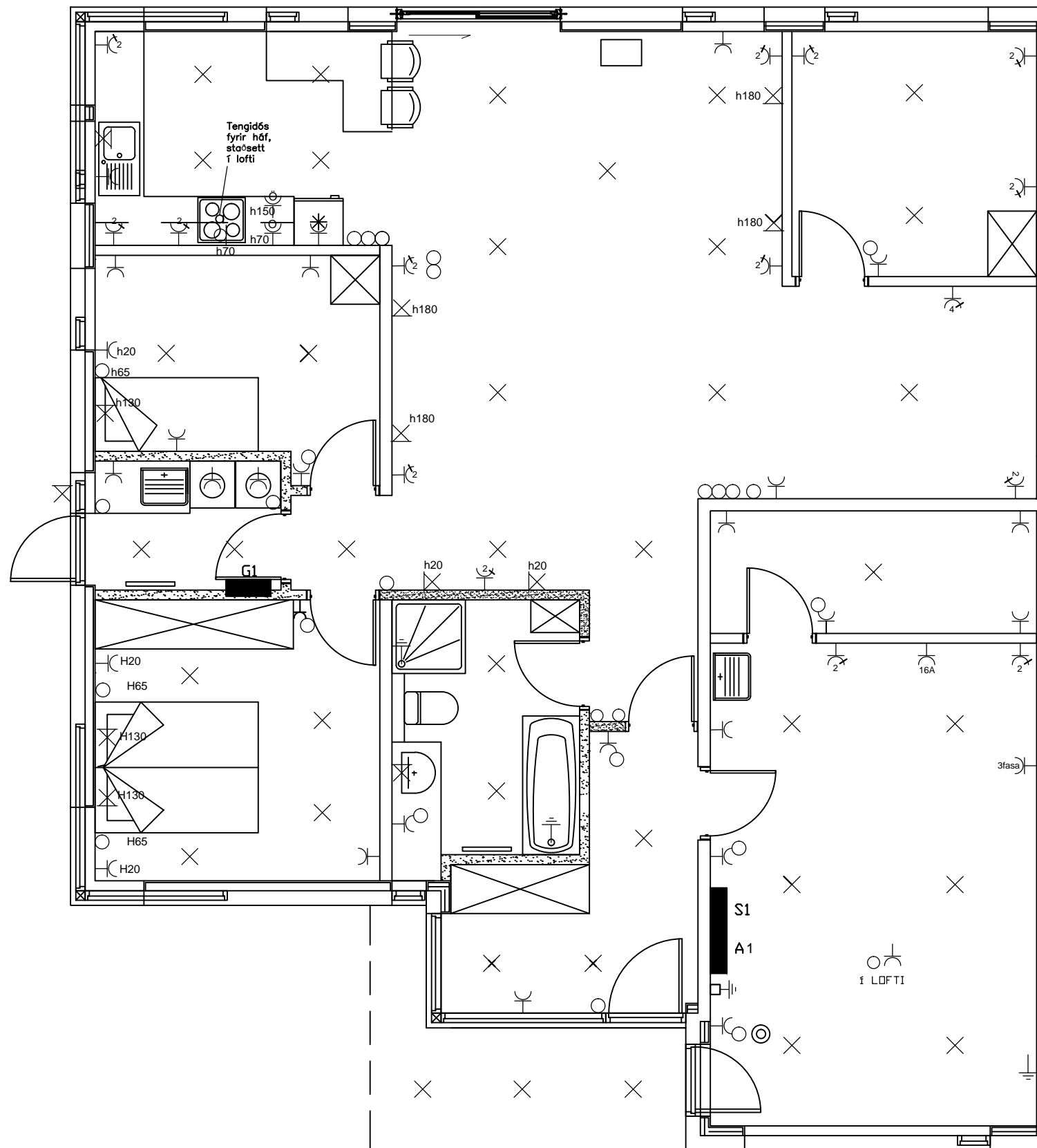




TEIKNING EKKI Í RÉTTUM MÆLIKVARÐA.

Sveinsprófsnefnd
sterkstraums
júní 2019

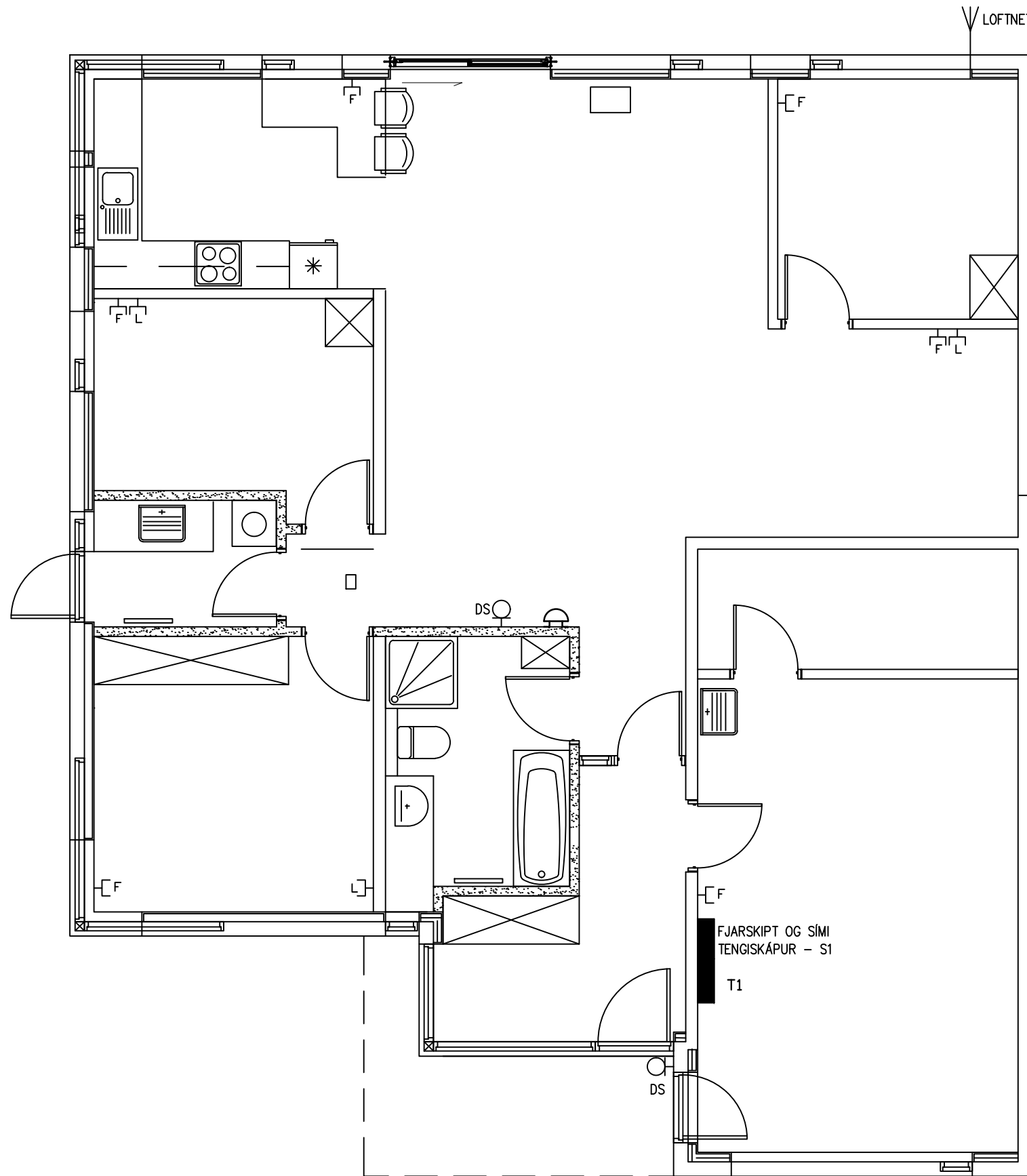
Kerfi: YFIRLITSMYND
 Nafn: _____
 Kennit.: _____



TEIKNING EKKI Í RÉTTUM MÆLIKVARÐA.

Sveinsprófsnefnd
sterkstraums
júní 2019

Kerfi: LÁGSPENNULÖGN
Nafn: _____
Kennit.: _____



TEIKNING EKKI Í RÉTTUM MÆLIKVARÐA.

Sveinsprófsnefnd
sterkstraums
júní 2019

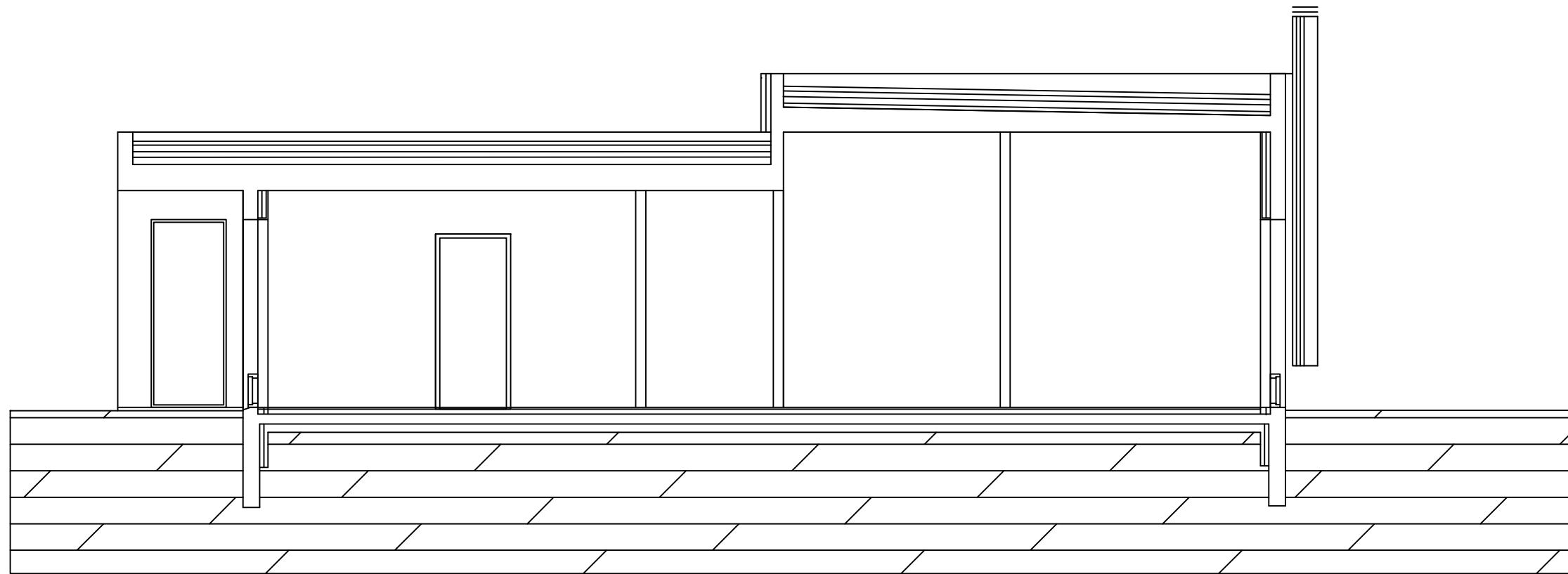
Kerfi: SMÁSPENNULÖGN
Nafn: _____
Kennit.: _____

Sveinsprófsnefnd
sterkstraums
júní 2019

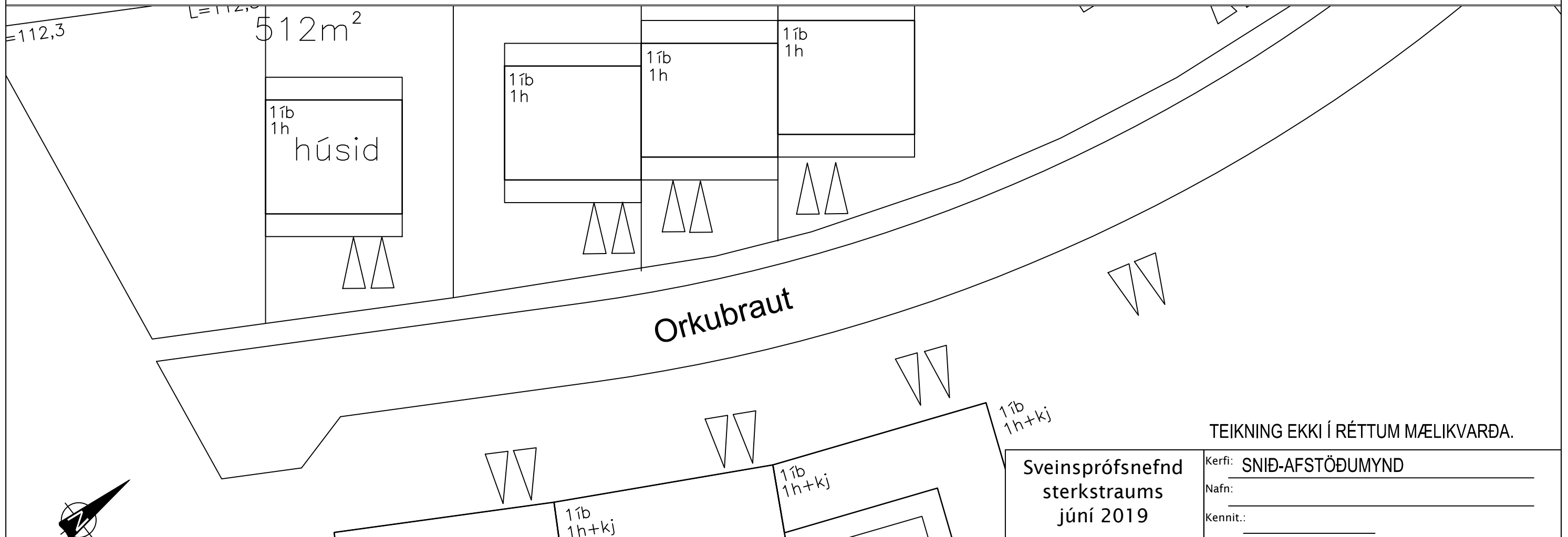
Kerfi: SKÝRINGAR
Nafn: _____
Kennit.: _____

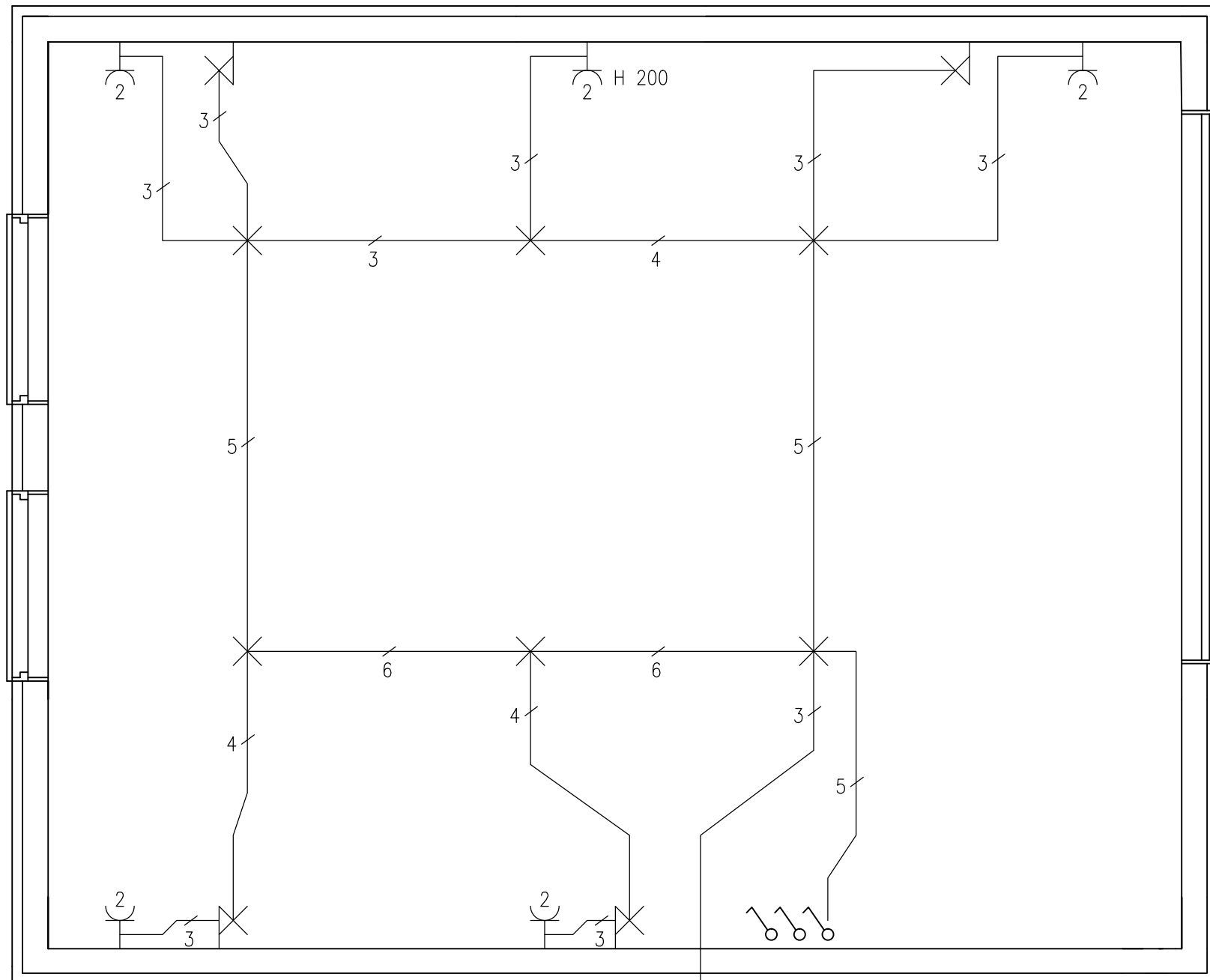
Sveinsprófsnefnd
sterkstraums
júní 2019

Kerfi: EINLÍNUMYND
Nafn: _____
Kennit.: _____



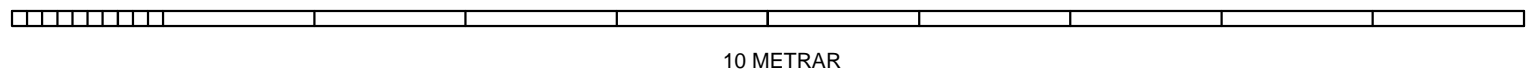
Snið A





Lögn að töflu
4 m frá útvegg

HÆÐ RÝMIS ER 2500 MM
MÆLIKVARÐI 1:50



Ath.
Hæð rofa og tengla 1100mm nema annað sé tekið fram
Hæð veggjónsa 1800mm

Sveinsprófsnefnd sterkstraums júní 2019	Kerfi: MAGNMÆLINGAR
	Nafn: _____
	Kennit.: _____