



Sveinsprófsnefnd sterkstraums

Raflagnir og stýringar Próf 01a

5.- 11 febrúar 2020

Nafn: _____

Kennitala: _____

Heimilisfang: _____

Hjálpargögn: Handverkfæri, mælitæki, Staðall ÍST 200: 2006
Tæknilegir tengiskilmálar rafveitna og skriffæri.

Skýringar á verkefnum: Byrja skal á að staðsetja búnað í töflu samkvæmt einlínnumynd. Ganga skal frá og fulltengja þann búnað sem í töflu á að koma, áður en byrjað er á lögnum. Lagnir frá töflu leggjast samkvæmt raflagnateikningu, einlínu- og sniðmynd. Leggja skal Cat streng fyrir fjarskiptatengli í tenglarennu samkvæmt sniðmynd og skal staðsetja gagnatengil á din skinnu fyrir fjarskipti í fjarskiptahólfi fyrir ofan mæli í aðaltöflu.

Allar láréttar lagnir leggjast í loftkverk.

Að loknu þessu skal tengja Stýritöflu. Að öðru leiti ákveður próftaki sjálfur lagnir með hliðsjón af því efni, sem hann hefur til að vinna úr.

Heimtaug kemur beint í töflukassa.

Fylgja skal kröfum rafveitna og Mannvirkjastofnunar í hvívetna.

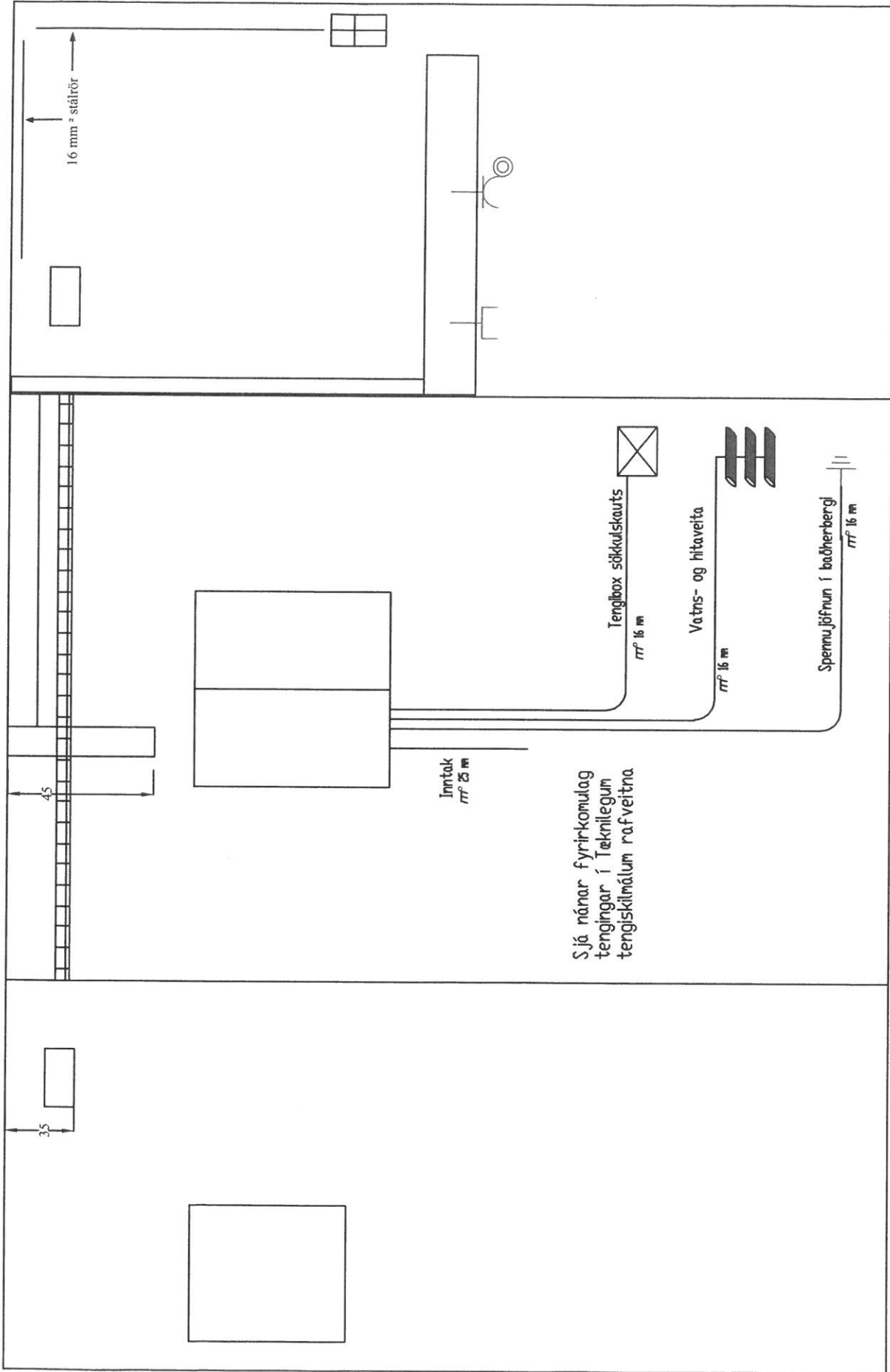
Matarhlé verður frá kl:12:00 til 13:00 og 15 mín, í kaffihlé síðdegis.

Úrlausnartími: 8 klst.

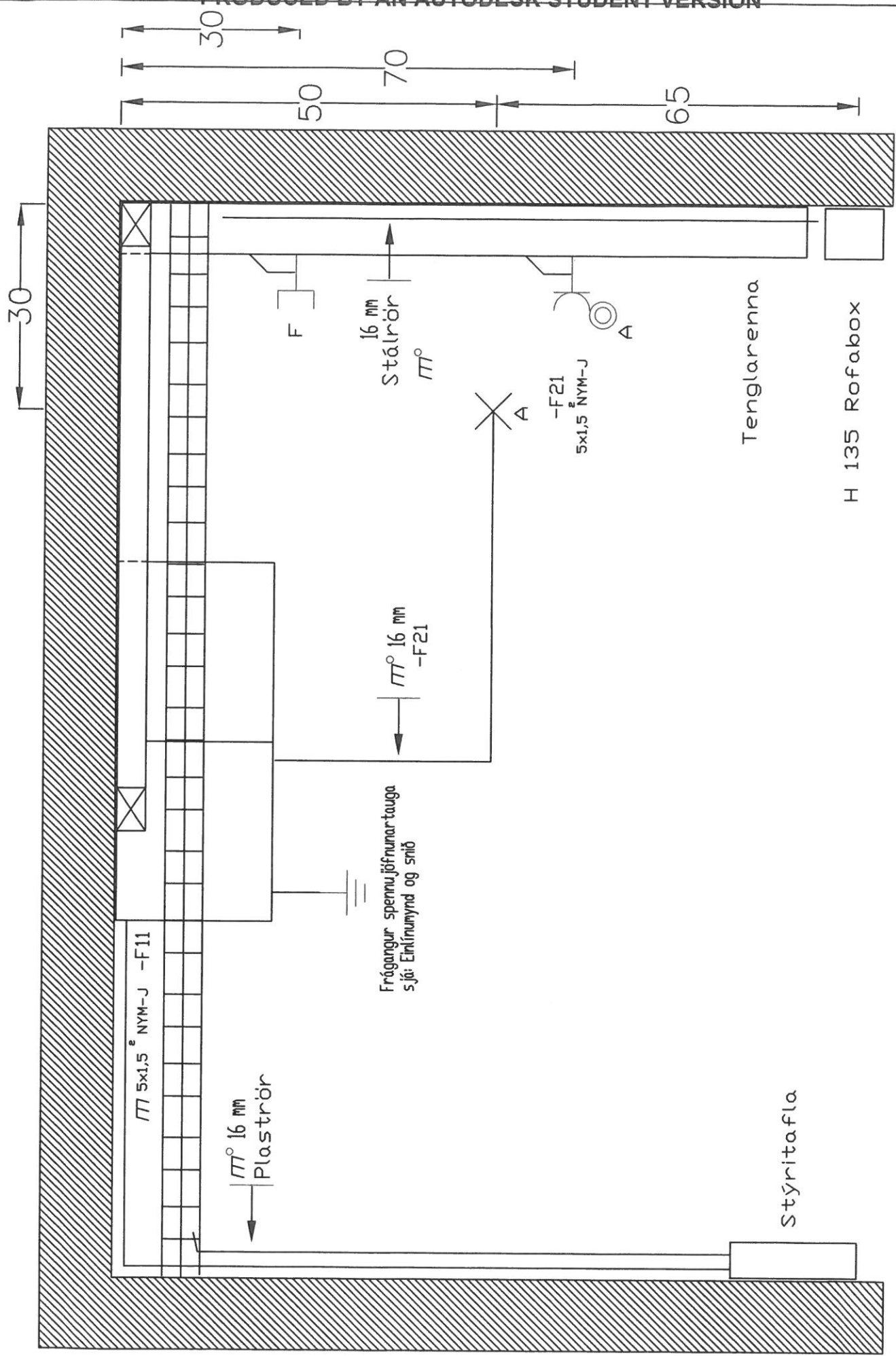
Gangi þér vel !

Áritun prófdómara

Skilað kl.	Aukablöð	Kvittun

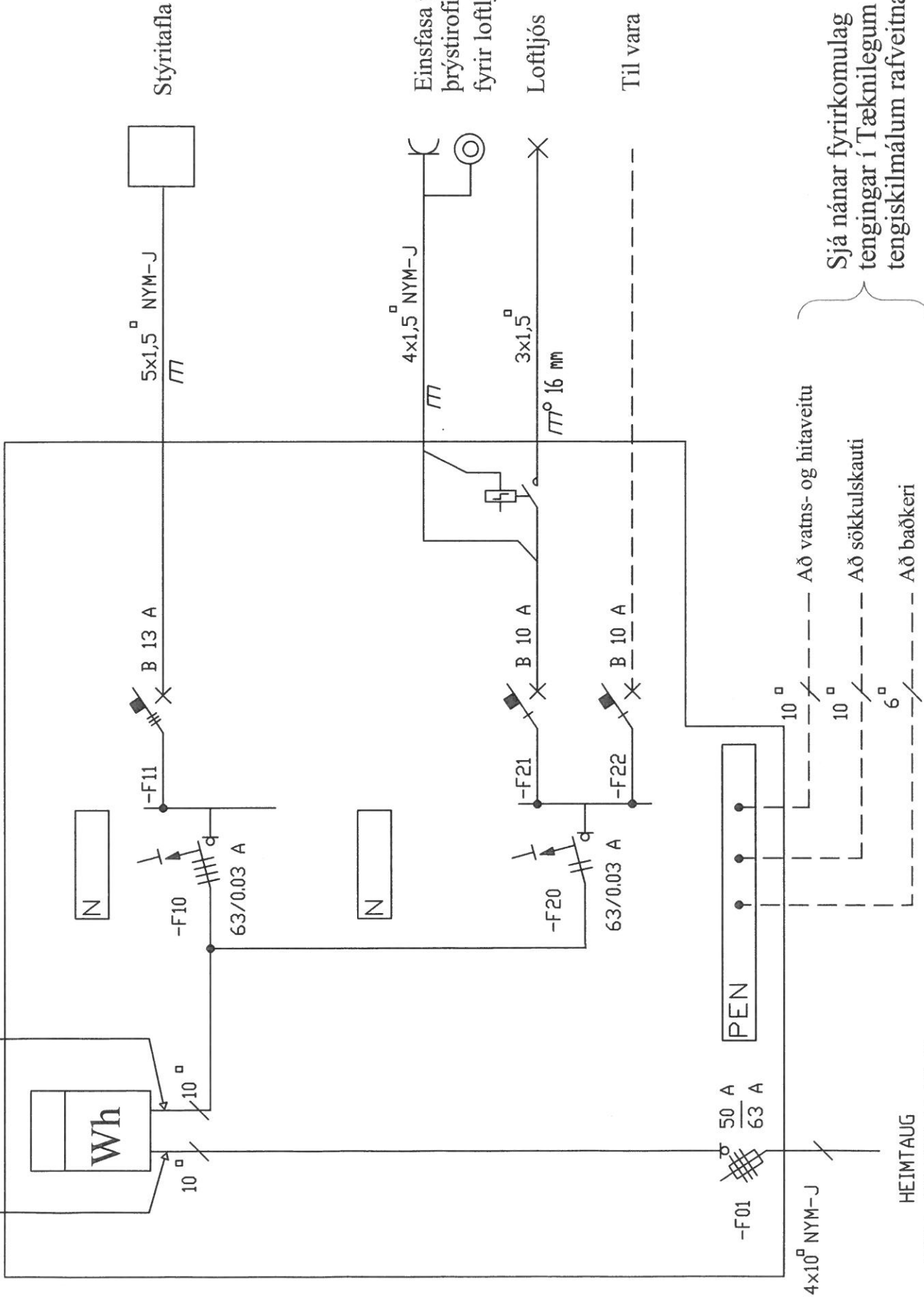


Sjá nánar fyrirkomulag tengingar í Tæknilegum tengiskilmálum rafveitna



Sveinsprófsnefnd raflöna, sterkstraumi	Dagur: 22.09.2016 Lefend: Sölva / Stefán B. Tími:	AUTODESK STUDENT VERSION	RAFLAGNIR - STÝRINGAR	Mál í cm	RAFLAG-01a
					AN

Dregið út fyrir mæli og tengist í mælatengi



Sjá nánar fyrirkomulag tengingar í Tæknilegum tengiskilmálum rafveitna

HEIMTAUG
3/N ~ 400/230 V 50 Hz

Sveinsprófsnefnd
rafiðna, sterkstraum

Dagur: 16.01.1998
Tefni: S05b
Vttf.: PS - V40

h. Vörubásar
a. Stórmynd
b. Vörubásar

EINLÍNUMYND

PRODUCED BY AN AUTODESK STUDENT VERSION

einlin001.dwg

