

6. júní 2017 kl. 13:00 - 16:00

Sveinspróf í rafvirkjun

Raflagnateikning

ásamt magnmælingu.

Nafn: _____
Kennitala: _____
Heimilisfang: _____

Hjálpargögn sem leyfð eru: Teikniáhöld, skriffæri, reglustrikur, teiknibretti A3 og reiknivél.

Skýringar: Próftaki skal fullgera teikningu í húsið ásamt almennum skýringum, þannig að teikningin sé tilbúin til samþykktar. Í húsið koma aðal- og greinatafla, sem próftaka bera að teikna einlínumyndir (töfluteikning) og snið af. Tákn fyrir rofa eru sýnd með hringjum, sem próftaki skal fullgera, en að öðru leyti þarf ekki að bæta við táknum.

Notast skal við tákni úr IEC 60617-DB-12M:2012 eða sambærilegt.

Gera skal efnislista (magnmæling) samkvæmt sérteikningu sem fylgir með.

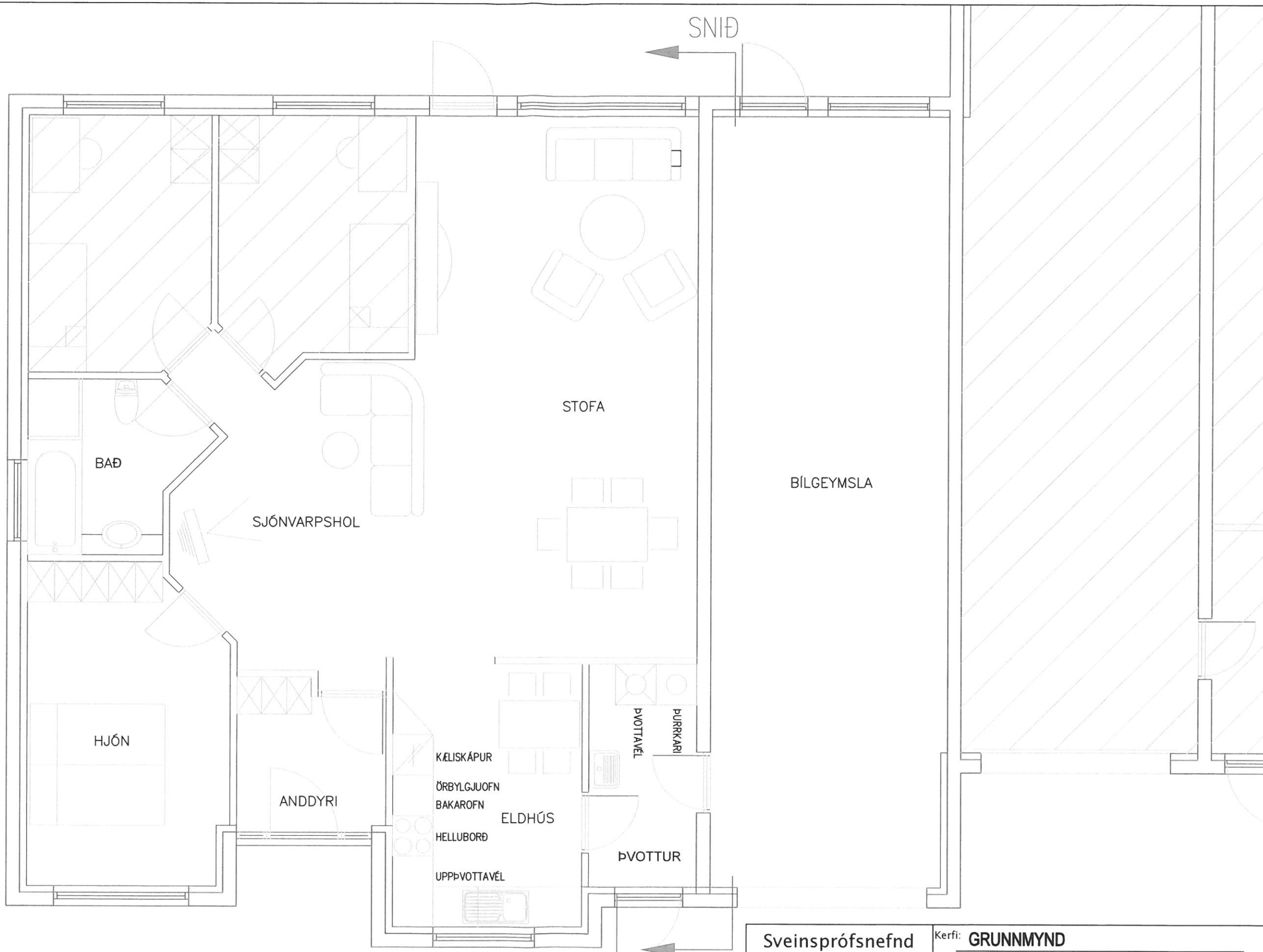
| | | |
|-------|---------------|------|
| Vægi: | Lágspennulögn | 45 % |
| | Einlínumynd | 25 % |
| | Smáspennulögn | 10 % |
| | Snið | 5 % |
| | Afstöðumynd | 5 % |
| | Magnmæling | 10 % |

Gangi þér vel !

Úrlausnartími: 3 klst.

Sveinsprófsnefnd sterkstraums júní 2017

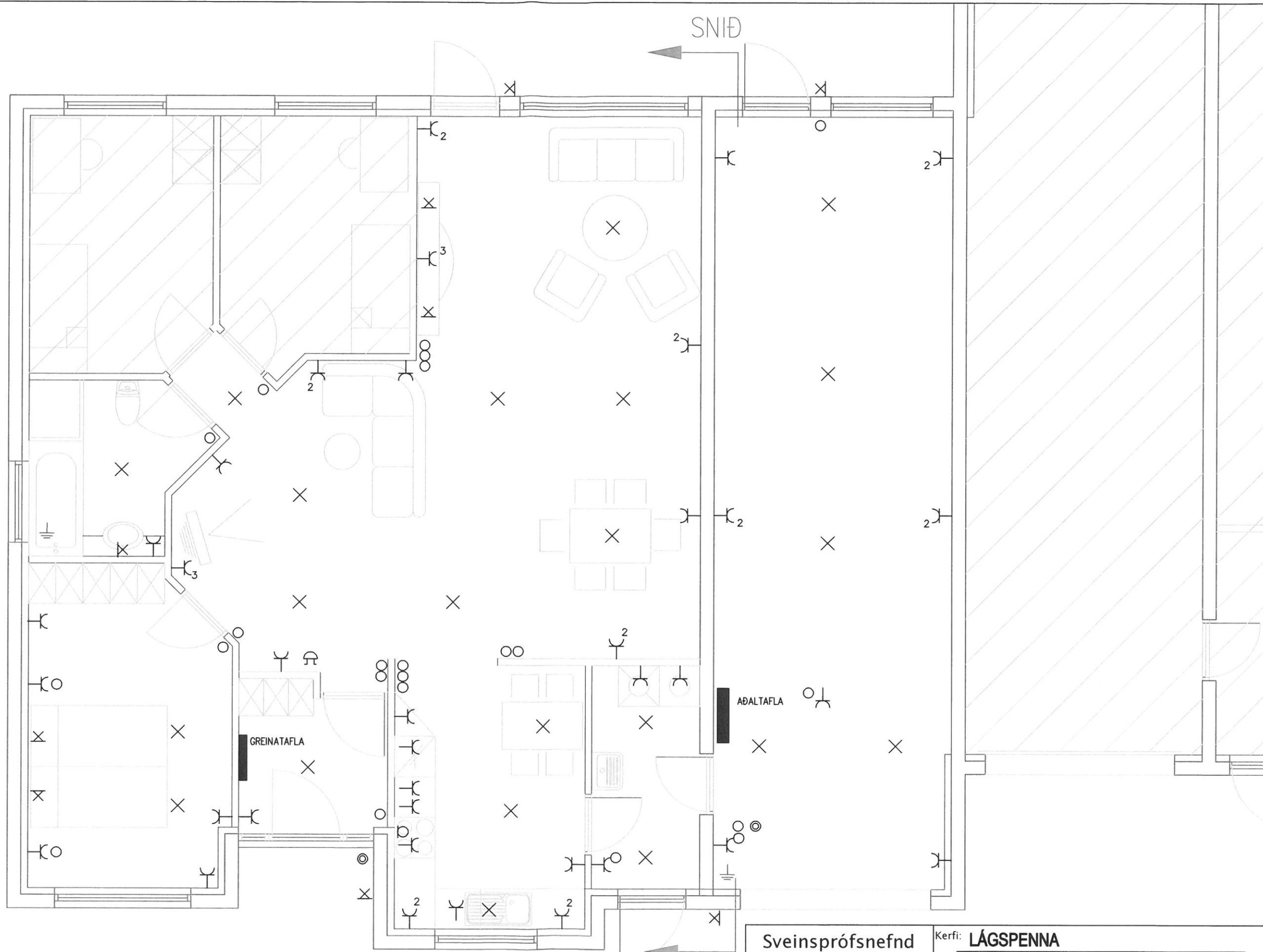




TEIKNING EKKI Í MÆLIKVARÐA.

Sveinsprófsnefnd
sterkstraums
júní 2017

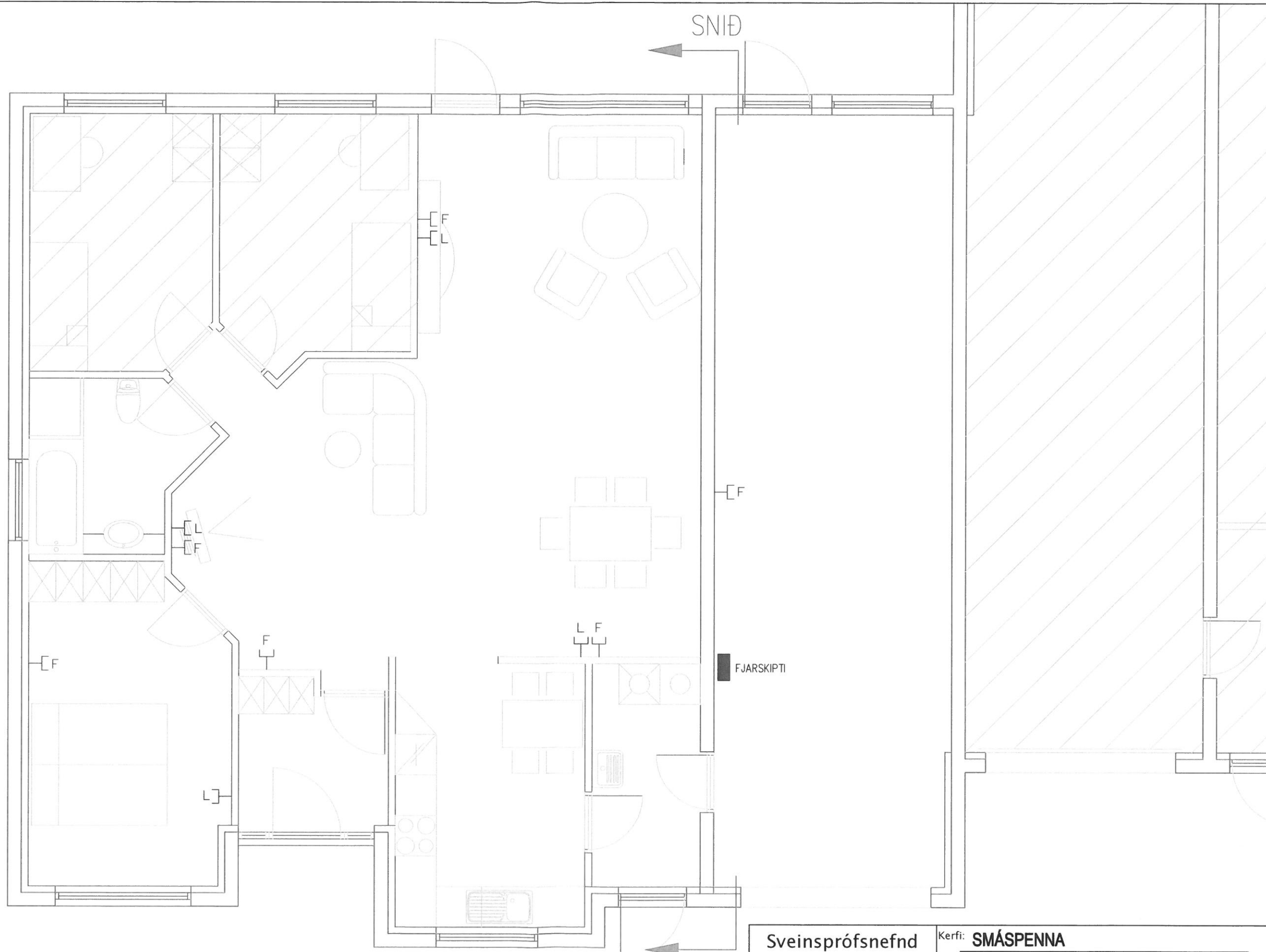
Kerfi: **GRUNNMYND**
 Nafn: _____
 Kennit.: _____



TEIKNING EKKI Í MÆLIKVARÐA.

Sveinsprófsnefnd
sterkstraums
júní 2017

Kerfi: **LÁGSPENNA**
 Nafn: _____
 Kennit.: _____



TEIKNING EKKI Í MÆLIKVARÐA.

Sveinsprófsnefnd
sterkstraums
júni 2017

Kerfi: **SMÁSPENNA**
Nafn: _____
Kennit.: _____

Sveinsprófsnefnd
sterkstraums
júní 2017

Kerfi: EINLÍNUMYNDIR

Nafn: _____

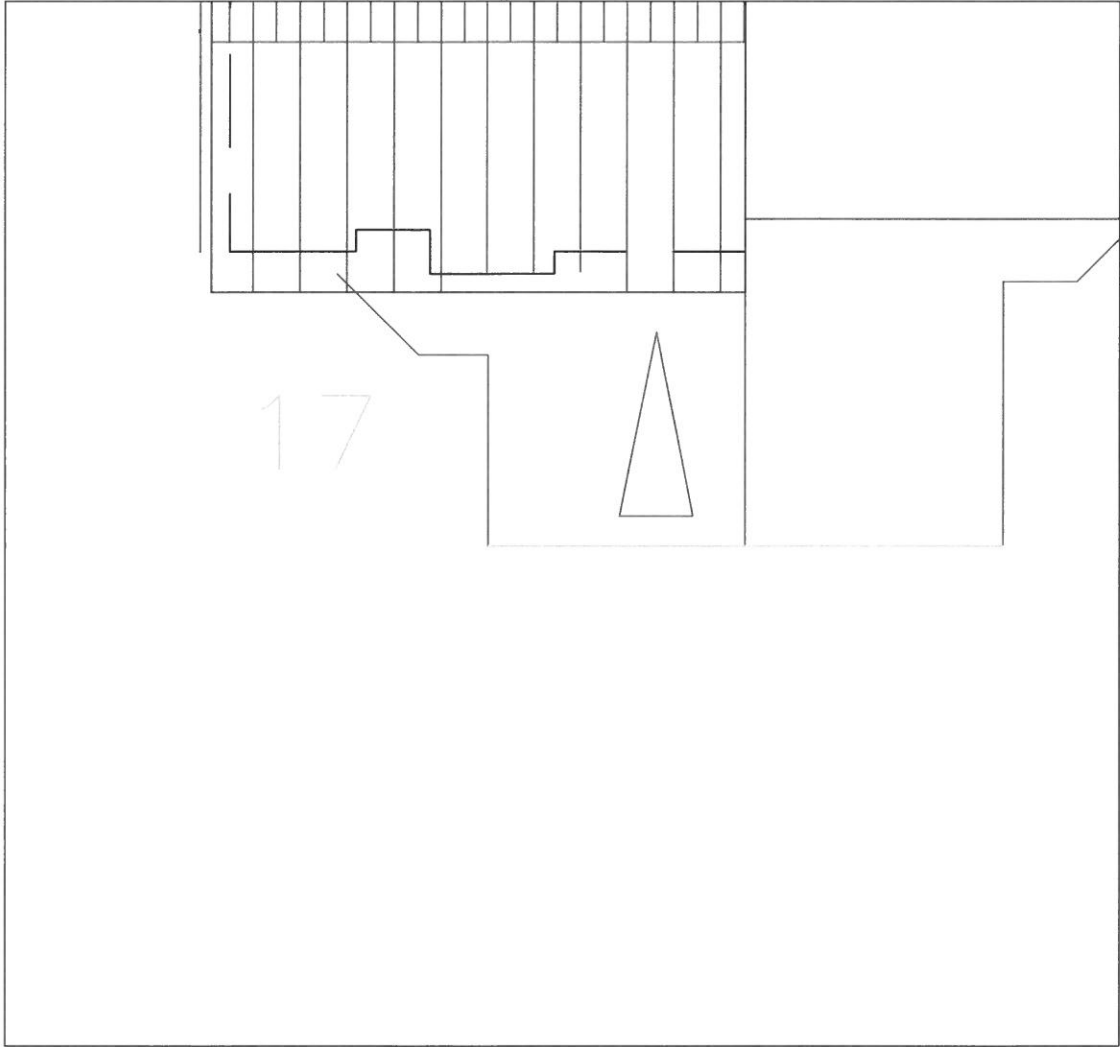
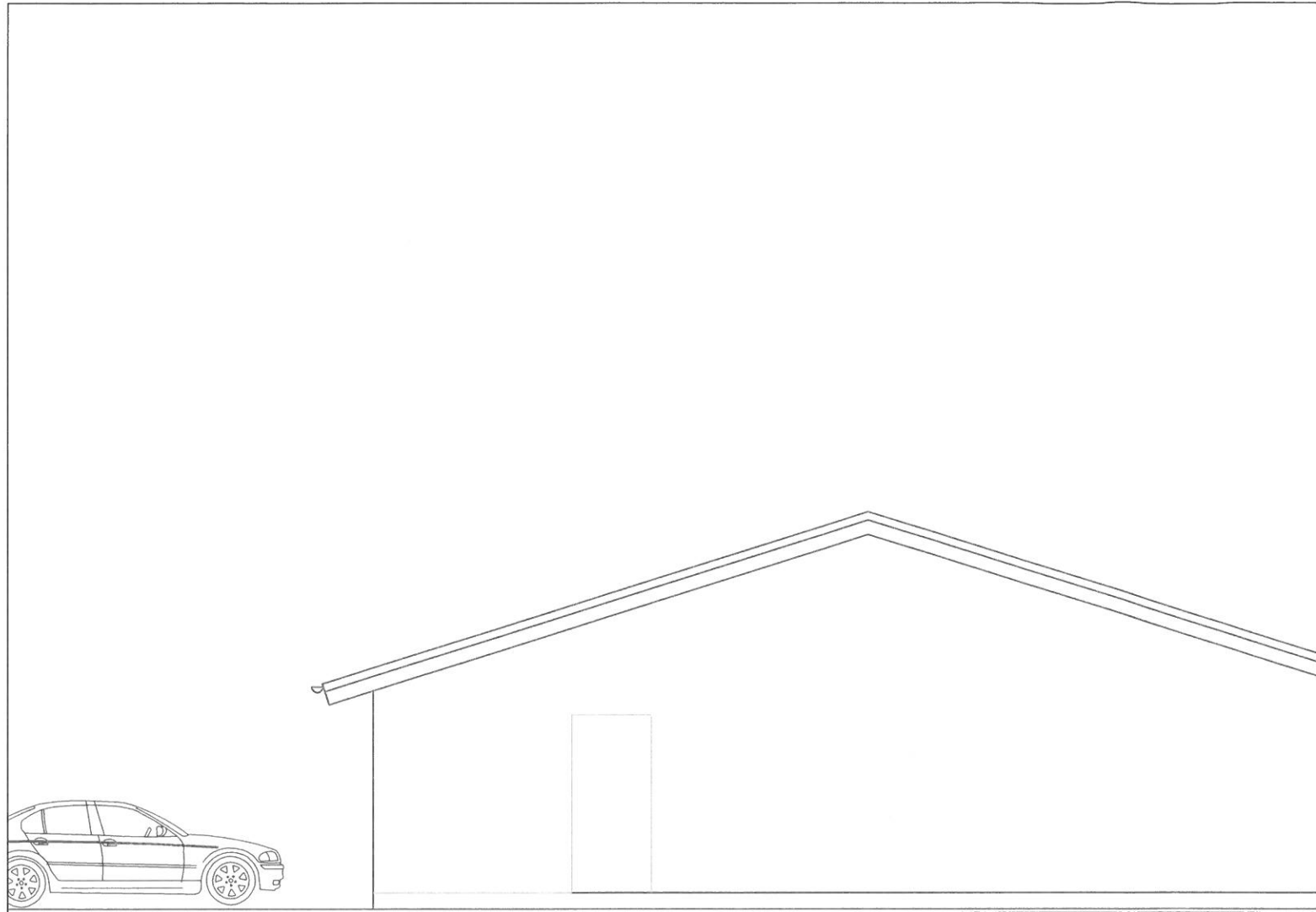
Kennit.: _____

Sveinsprófsnefnd
sterkstraums
júní 2017

Kerfi: **SKÝRINGAR**

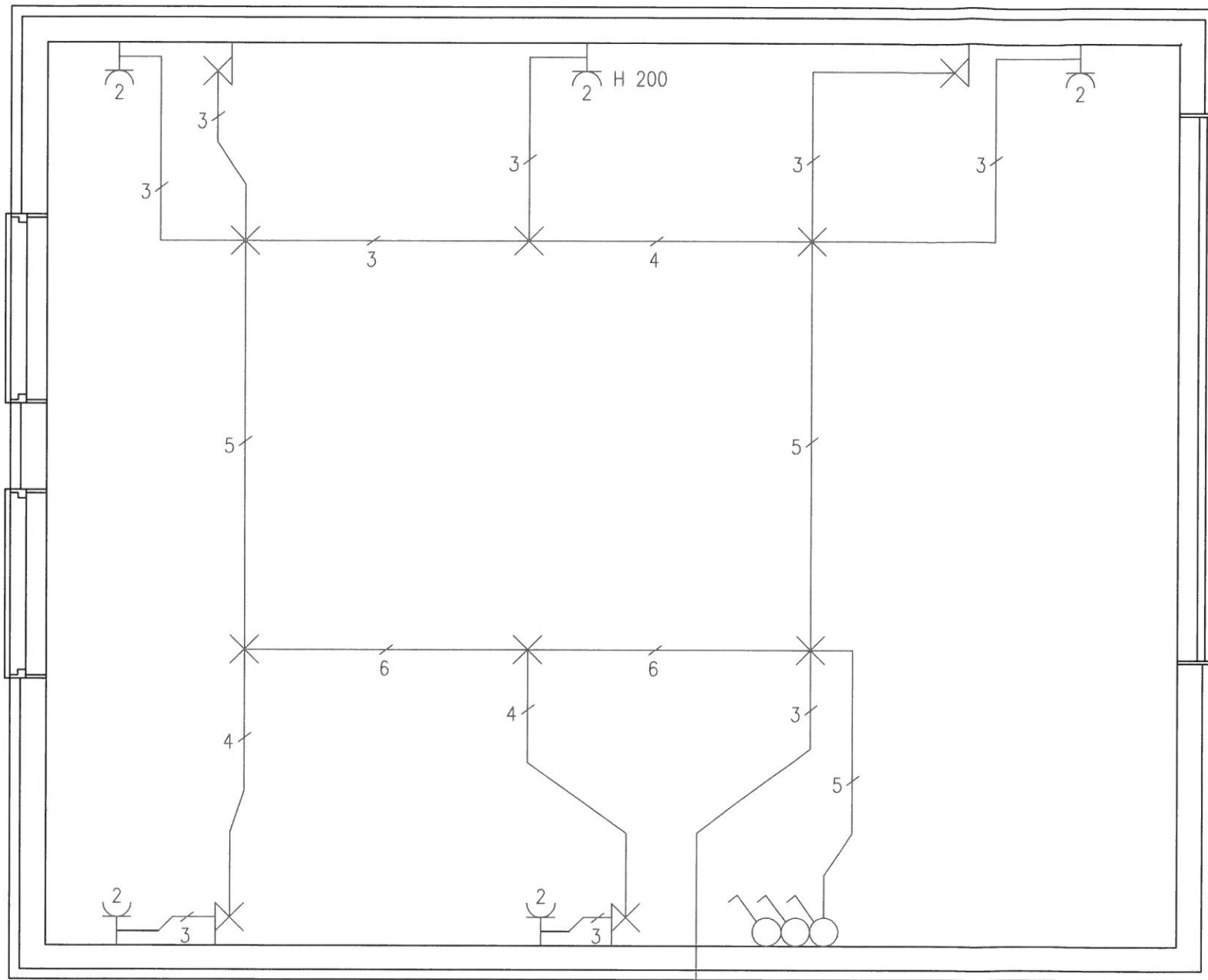
Nafn:

Kennit:



Sveinsprófsnefnd
sterkstraums
júní 2107

Kerfi: **SNID-AFSTÖÐUMYND**
Nafn: _____
Kennit.: _____



Lögn að töflu
4 m frá útvegg

HÆÐ RÝMIS ER 2500 MM
MÆLIKVARÐI 1:50

Ath.

Hæð rofa og tengla 1100mm nema annað sé tekið fram
Hæð veggljósa 1800mm

Sveinsprófsnefnd
sterkstraums
júní 2017

Kerfi: **MAGNMÆLING**
Nafn: _____
Kennit: _____