

02.febrúar 2021 kl. 8:30 - 11:30

Sveinspróf í rafvirkjun

Raflagnateikning

ásamt magnmælingu.



Nafn: _____
Kennitala: _____
Heimilisfang: _____

Hjálpargögn sem leyfð eru: Teikniáhöld, skriffæri, reglustrikur, teiknibretti A3 og reiknivél.

Skýringar: Próftaki skal fullgera teikningu í húsið ásamt almennum skýringum, þannig að teikningin sé tilbúin til samþykktar. Í húsið koma aðal- og greinatafla, sem próftaka bera að teikna einlínmyndir (töfluteikning) og snið af. Tákn fyrir rofa eru sýnd með hringjum, sem próftaki skal fullgera, en að öðru leyti þarf ekki að bæta við táknum. Rými sem eru skyggð þarf ekki að teikna.

Notast skal við tákn úr IEC 60617-DB-12M:2012 eða sambærilegt.

Gera skal efnislista (magnmæling) samkvæmt sérteikningu sem fylgir með.

Vægi: Lágspennulögn og skýringar	45 %
Einlínmynd	25 %
Smáspennulögn	10 %
Snið	5 %
Afstöðumynd	5 %
Magnmæling	10 %

Áritun prófdómara

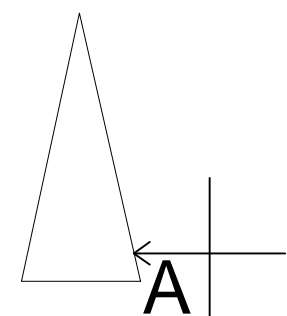
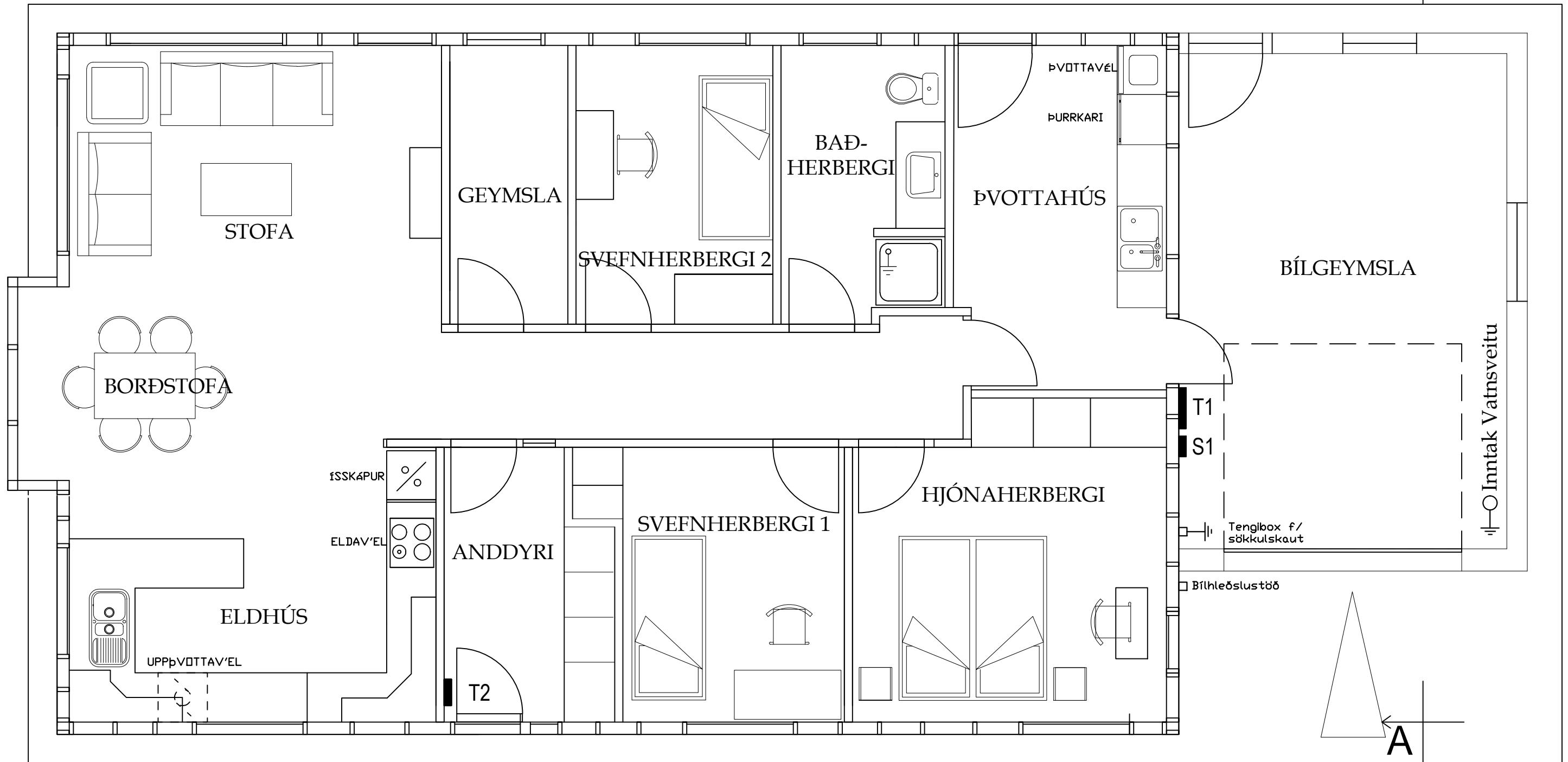
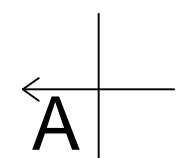
Skilað kl.	Aukablöð.	Mótttekið	Einkunn

Gangi þér vel !

Úrlausnartími: 3 klst.

Sveinsprófsnefnd sterkstraums febrúar 2021





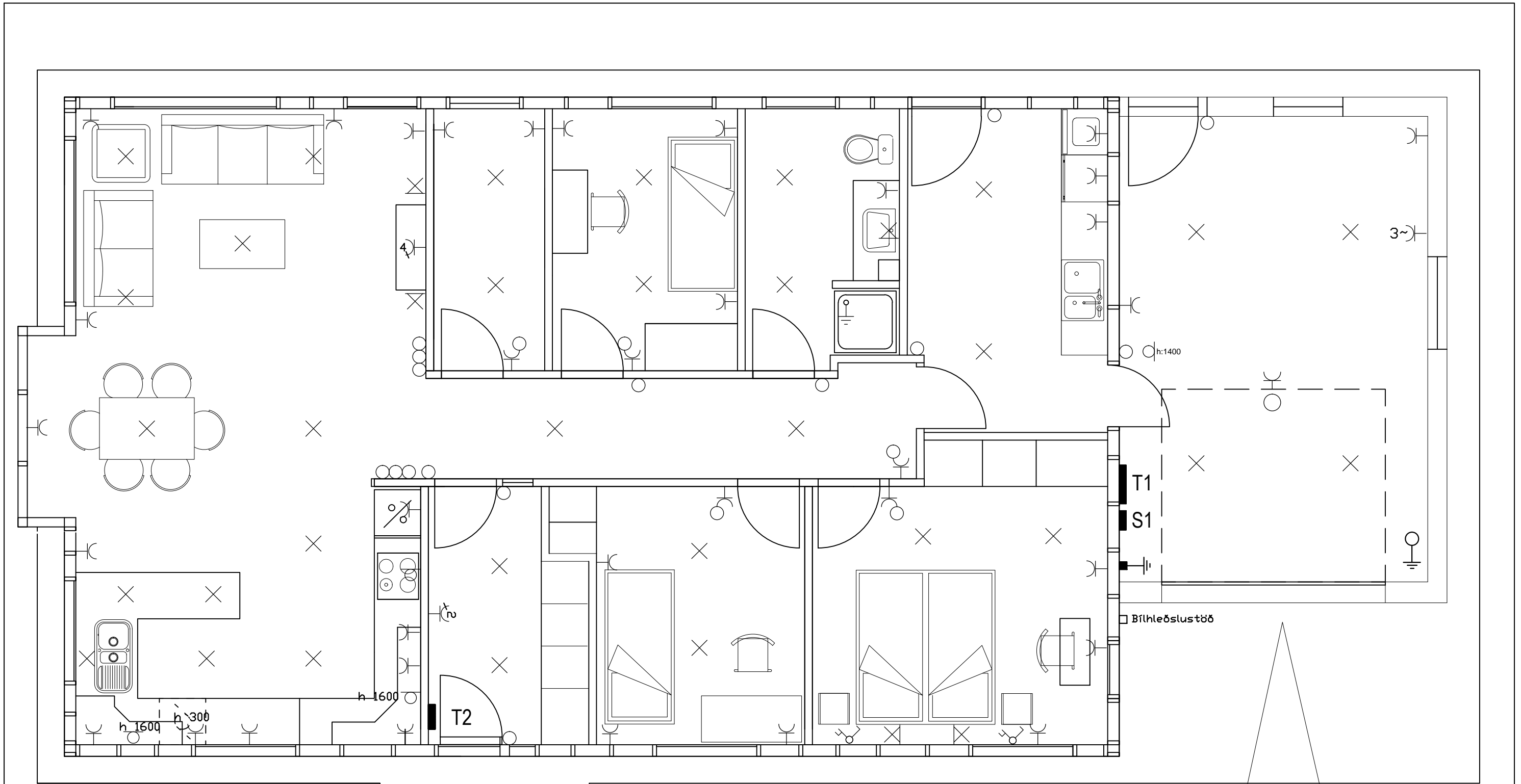
MKV 1:50

Sveinsprófsnefnd
sterkstraums
Febrúar 2021

Kerfi: YFIRLITSMYND

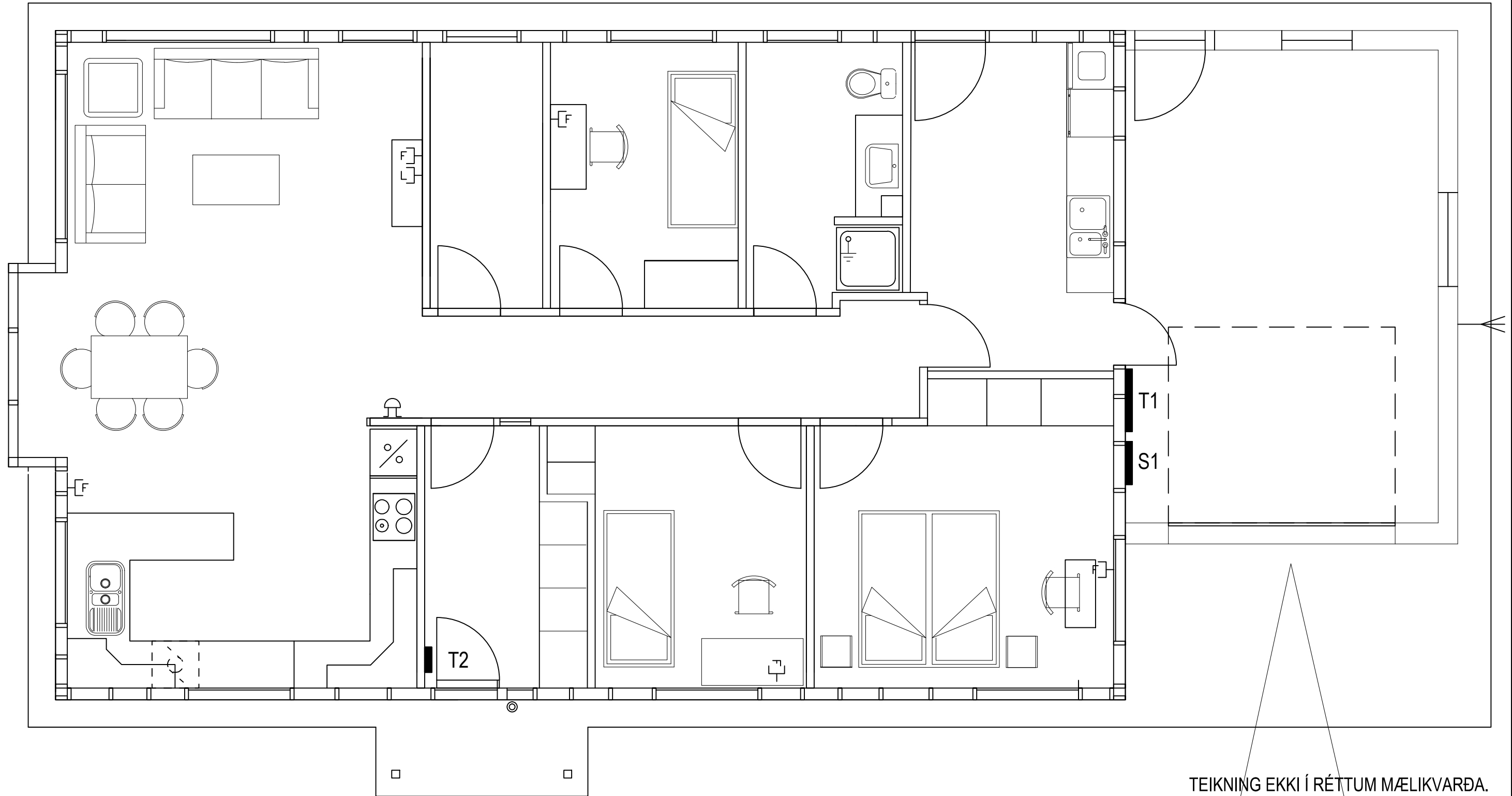
Nafn: _____

Kennit.: _____



TEIKNING EKKI Í RÉTTUM MÆLIKVARÐA.

<p>Sveinsprófsnefnd sterkstraums Febrúar 2021</p>	
Kerfi:	LÁGSPENNULÖGN
Nafn:	_____
Kennit.:	_____



TEIKNING EKKI Í RÉTTUM MÆLIKVARÐA.

Sveinsprófsnefnd
sterkstraums
Febrúar 2021

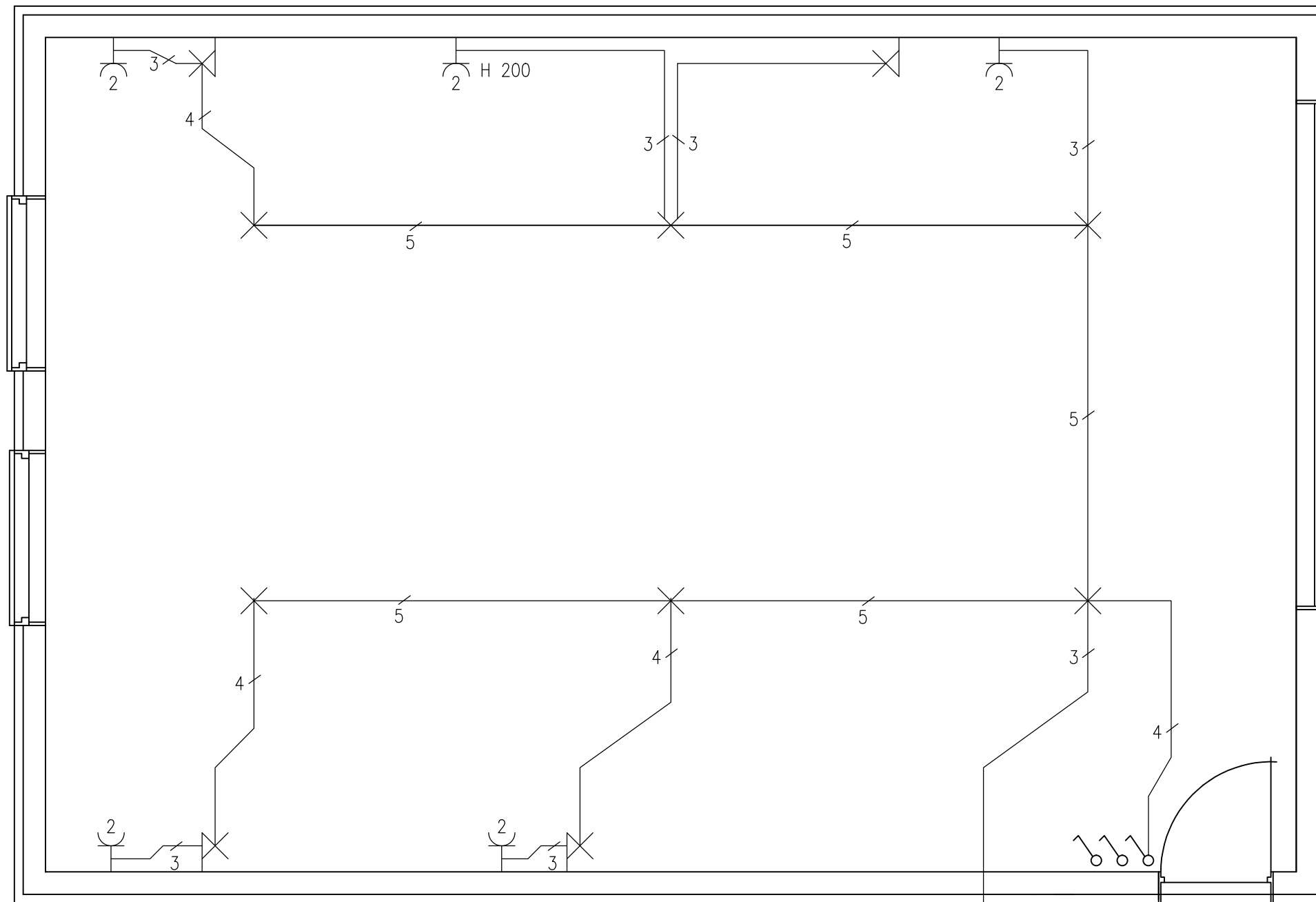
Kerfi: SMÁSPENNULÖGN
Nafn: _____
Kennit.: _____

Sveinsprófsnefnd
sterkstraums
Febrúar 2021

Kerfi: SKÝRINGAR _____
Nafn: _____
Kennit.: _____

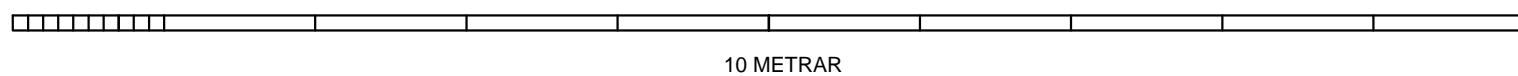
Sveinsprófsnefnd
sterkstraums
Febrúar 2021

Kerfi: EINLÍNUMYND
Nafn: _____
Kennit.: _____



HÆÐ RÝMIS ER 2500 MM
MÆLIKVARÐI 1:50

Lögn að töflu
4 m frá útvegg



Ath.
Hæð rofa og tengla 1100mm
nema annað sé tekið fram
Hæð veggjónsa 1800mm

Sveinsprófsnefnd
sterkstraums
Febrúar 2021

Kerfi: MAGNMÆLINGAR
Nafn: _____
Kennit.: _____